

NOME: \_\_\_\_\_

DATA: \_\_\_\_\_

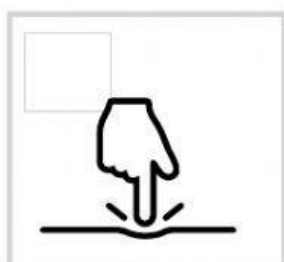


PROFESSOR(A) \_\_\_\_\_


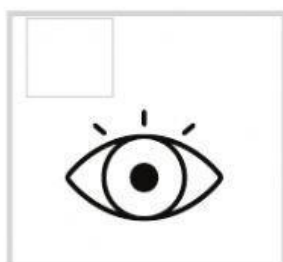

ESCOLA: \_\_\_\_\_

## Exercícios de Ciências

1-ENUMERE RELACIONANDO OS SENTIDOS COM A PARTE DO CORPO



1. AUDIÇÃO
2. OLFATO
3. PALADAR
4. VISÃO
5. TATO



2-QUANTOS SÃO OS SENTIDOS DO CORPO HUMANO?

3-ÓRGÃO RESPONSÁVEL PELO SENTIDO DO TATO?

**MÃO**

**OUVIDO**

**PELE**

**VISÃO**

**AUDIÇÃO**

4-QUAIS SÃO OS CINCO SENTIDOS DO CORPO HUMANO?

5-ÓRGÃO RESPONSÁVEL PELO SENTIDO DO PALADAR?

**BOCA**

**OUVIDO**

**LÍNGUA**

**VISÃO**

**AUDIÇÃO**

6- ENCONTRE O NOME DOS CINCO SENTIDOS:

1. SENTIDO RESPONSÁVEL POR SENTIR O SABOR DOS ALIMENTOS?
2. SENTIDO RESPONSÁVEL POR OUVIR O SOM DO AMBIENTE?
3. SENTIDO RESPONSÁVEL POR SENTIR O CHEIRO DAS COISAS?
4. SENTIDO RESPONSÁVEL POR SENTIR A TEXTURA, O CALOR, O FRIO?
5. SENTIDO RESPONSÁVEL POR ENXERGAR TUDO AO REDOR?

|   |   |   |   |   |   |   |   |
|---|---|---|---|---|---|---|---|
| V | A | Y | P | E | V | K | B |
| J | P | U | T | A | T | O | O |
| E | A | I | D | F | V | T | B |
| V | L | T | Q | I | A | M | V |
| I | A | Q | Q | F | Ç | W | L |
| S | D | L | L | M | O | Ã | O |
| Ã | A | O | H | G | J | N | O |
| O | R | S | H | I | W | Ã | U |

7- COMPLETE OS SENTIDOS AOS SEUS ÓRGÃOS.

a) OS  SÃO OS ÓRGÃOS DA \_\_\_\_\_

b) OS  SÃO OS ÓRGÃOS DA \_\_\_\_\_

c) O  É O ÓRGÃO DO \_\_\_\_\_

d) AS  SÃO OS ÓRGÃOS DA \_\_\_\_\_

e) A  É O ÓRGÃO DO \_\_\_\_\_