

EXAMEN DE MATEMATICAS 1° GRADO
PARCIAL DE OCTUBRE




I.- Observa la siguiente imagen y contesta. 1 pto.



1.- ¿Qué hay más carritos o dinosaurios? _____

2.- Coloca el número de frutas que hay en cada colección. 2 ptos.



3.- Jorge tiene 5 chocolates y Perla 6 si juntan los chocolates ¿cuántos tienen en total? _____ 1 pto.

4.- Une con una línea el número con su imagen. 3 pts.

3




5



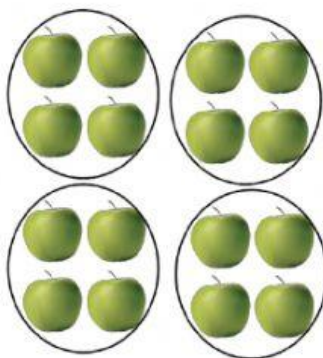
7




5.- Selecciona las figuras que conforman el tangram. 3 pts.



6.- ¿Cuántas manzanas verdes hay en total si tenemos 4 grupos de 4 manzanas? _____



7.- ¿Cuántas manzanas rojas hay en total si tenemos 5 grupos de 2 manzanas? _____



8.- Resuelve las siguientes sumas. 3 ptos.

  $4 + 1 = \square$

  $2 + 2 = \square$

  $3 + 2 = \square$

  $2 + 5 = \square$

  $4 + 2 = \square$