

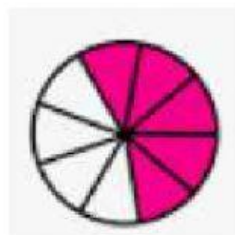
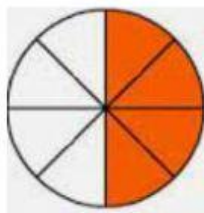
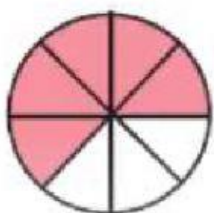
**Problema:** En una pastelería se vendieron  $\frac{5}{8}$  de tarta de chocolate y  $\frac{7}{8}$  de tarta de manzana. Si las tartas se hicieron con el mismo molde ¿de qué tarta se vendió más cantidad?

**Elige la respuesta correcta:**

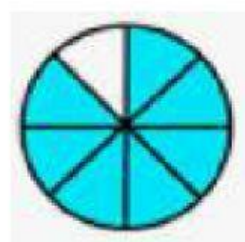
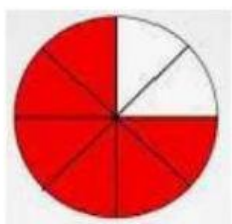
1. Como las tartas se hicieron con el mismo molde puedo comparar las fracciones.....



2. La tarta de chocolate que se vendió es.....



3. La tarta de manzana que se vendió es.....



4. Se vendió más tarta de .....

