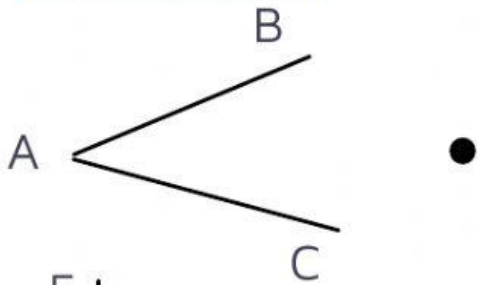


HỌ TÊN:

NGÀY:

# BÀI TẬP TỰ LUYỆN

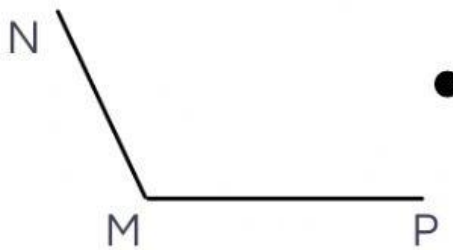
## Bài 1: Nối



Góc tù



Góc nhọn



Góc vuông



Góc bẹt

## Bài 2: Trong các hình tam giác sau, hình nào có:

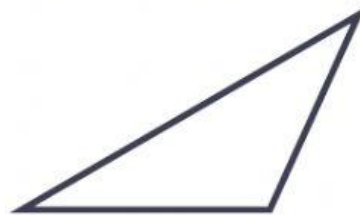
a. Hình nào có ba góc nhọn. Khoanh tròn trước câu trả lời đúng:



A



B



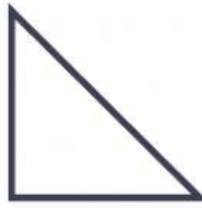
C

**Bài 3: Trong các hình tam giác sau, hình nào có:**

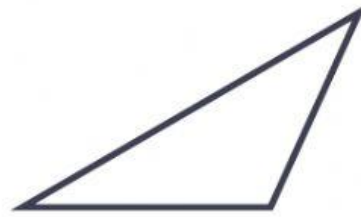
a. Hình nào có góc vuông. Khoanh tròn trước câu trả lời đúng:



A



B



C

**Bài 4: Trong các hình tam giác sau, hình nào có:**

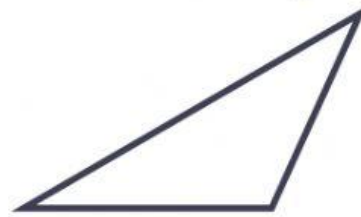
a. Hình nào có góc tù. Khoanh tròn trước câu trả lời đúng:



A



B



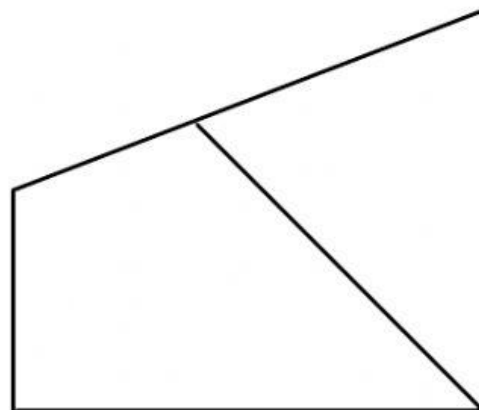
C

**Bài 5: Điền số còn thiếu vào chỗ trống:**

Có ..... góc tù

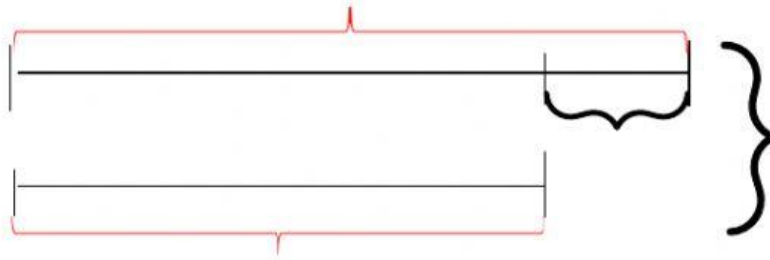
Có ..... góc vuông

Có ..... góc nhọn



**Bài 6:** Có 30 học sinh đang tập bơi, trong đó số em đã biết bơi ít hơn số em chưa biết bơi là 6 em. Hỏi có bao nhiêu em đã biết bơi, bao nhiêu em chưa biết bơi?

**Tóm tắt:**



**Bài giải**

" Trên con đường thành công, không có dấu chân của kẻ lười biếng."

