



## Ficha números hasta el 100.

Nombre: \_\_\_\_\_

1.- Completa la siguiente tabla con los números que corresponden.

1	2		4	5	6		8	9	10
	12	13	14	15	16	17	18		20
21	22		24		26			29	30
	32	33		35		37	38	39	
41				45	46	47		49	50
	52	53	54		56		58		
61	62		64	65	66	67		69	70
	72	73	74			77	78	79	
81		83	84			87		89	90
91		93		95	96	97	98		

2.- Escribe el antecesor y el sucesor de los siguientes números

a) \_\_\_\_ 2 \_\_\_\_ e) \_\_\_\_ 25 \_\_\_\_

b) \_\_\_\_ 18 \_\_\_\_ f) \_\_\_\_ 99 \_\_\_\_

c) \_\_\_\_ 54 \_\_\_\_ g) \_\_\_\_ 79 \_\_\_\_

d) \_\_\_\_ 87 \_\_\_\_ h) \_\_\_\_ 91 \_\_\_\_

3.- Escribe con palabras los siguientes números

15: \_\_\_\_\_

17: \_\_\_\_\_

22: \_\_\_\_\_

27: \_\_\_\_\_

55: \_\_\_\_\_

88: \_\_\_\_\_

97: \_\_\_\_\_

4.- Escribe el número que corresponde.

Dieciocho: \_\_\_\_\_

treinta y cinco: \_\_\_\_\_

Veintisiete: \_\_\_\_\_

cuarenta y ocho: \_\_\_\_\_

sesenta: \_\_\_\_\_

cincuenta y nueve: \_\_\_\_\_

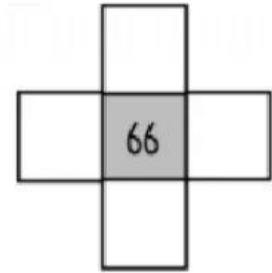
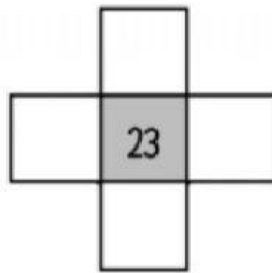
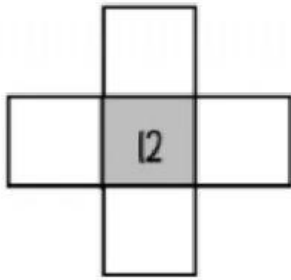
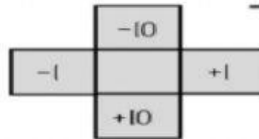
setenta y cuatro: \_\_\_\_\_

ochenta y nueve: \_\_\_\_\_

noventa y dos: \_\_\_\_\_

cien: \_\_\_\_\_

5.- Desafíos matemáticos.



6.- Descubre ¿Qué número soy? Encierra la alternativa correcta.

a) Tengo 5 decenas y 3 unidades ¿Qué número soy?

- a) 35
- b) 53
- c) 63

b) Tengo 7 unidades y 6 decenas ¿Qué número soy?

- a) 76
- b) 67
- c) 77

c) Tengo 8 decenas y 0 unidades ¿Qué número soy?

- a) 08
- b) 60
- c) 80

d) Tengo 3 unidades y 9 decenas ¿Qué número soy?

- a) 39
- b) 93
- c) 96