

EJERCICIOS DE ÁNGULOS

Actividad I: Relaciona las columnas de las definiciones con su respectiva respuesta.

Miden más de 90°

Obtuseos

Solo los une un vértice, están uno detrás de otro

Agudos

Juntos suman 180°

Opuestos por el vértice

Mide 90°

Rectos

Están uno al lado del otro solamente

Llanos

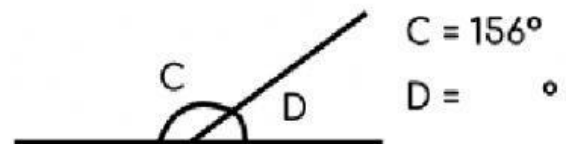
Miden menos de 90°

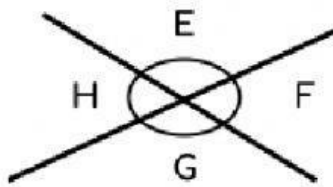
Adyacentes

Miden 180°

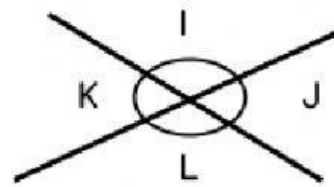
Suplementarios

Actividad II: Escribe la medida de los ángulos que te piden.

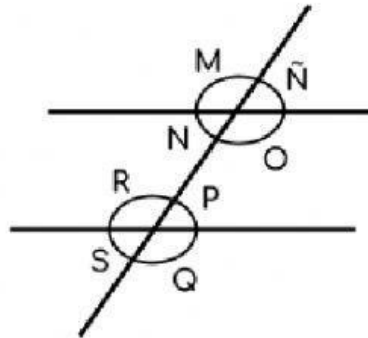




$$\begin{aligned} E &= 132^\circ \\ F &= \quad^\circ \\ G &= \quad^\circ \\ H &= \quad^\circ \end{aligned}$$



$$\begin{aligned} I &= \quad^\circ \\ J &= 49^\circ \\ K &= \quad^\circ \\ L &= \quad^\circ \end{aligned}$$



$$\begin{aligned} M &= 123^\circ \\ N &= \quad^\circ \\ \tilde{N} &= \quad^\circ \\ O &= \quad^\circ \\ P &= \quad^\circ \\ Q &= \quad^\circ \\ R &= \quad^\circ \\ S &= \quad^\circ \end{aligned}$$