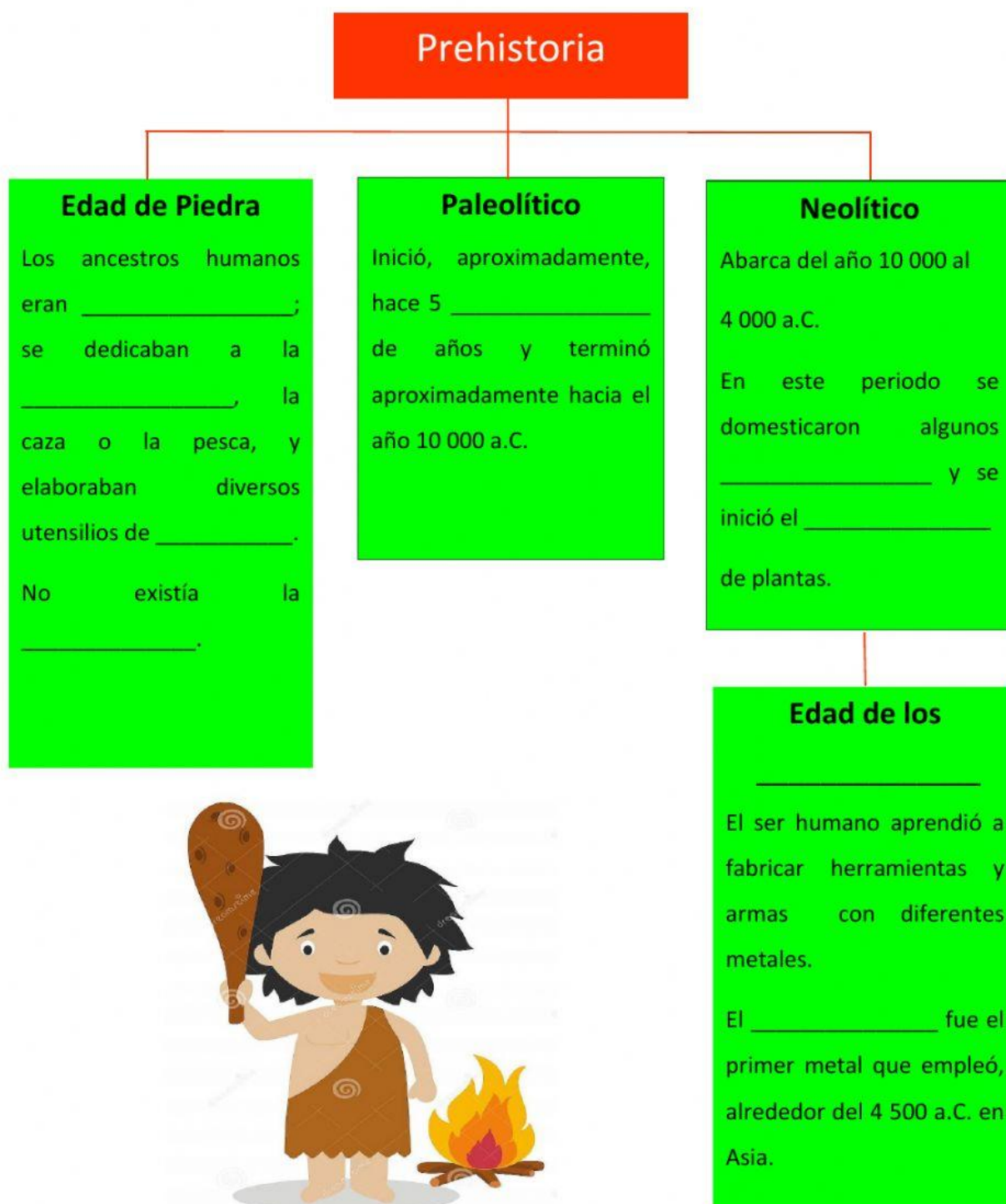



Origen del ser humano prehistórico

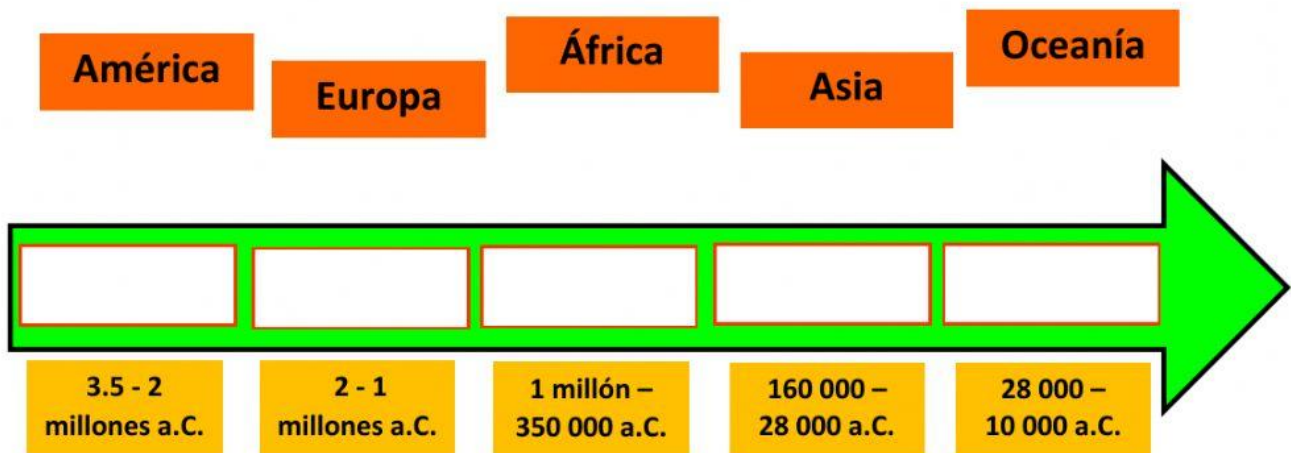
1.- Completa el esquema con las siguientes palabras: animales, cobre, cultivo, escritura, Metales, millones, nómadas, piedra, recolección.



2.- Selecciona el nombre correspondiente de acuerdo a la evolución del ser humano.



3.- Coloca dentro de la línea del tiempo el nombre del continente que fue poblado en la época que se indica.



4.- Lee los cuestionamientos y selecciona la respuesta que consideres correcta.

1.- Continente en el cual tuvo origen el ser humano:

Europa	África	América	Oceanía
--------	--------	---------	---------

2.- Periodo histórico donde tuvo su origen el ser humano, anterior a la invención de la escritura:

Historia

Modernidad

Ilustración

Prehistoria

3.- ¿Cuánto tiempo abarca el periodo de la Prehistoria?

Aproximadamente
5 millones de años.

100 millones
de años

Aproximadamente
3.5 millones de
años.

10 000 años.

4.- Es la especie de Homínidos considerada como los primeros ancestros de los seres humanos:

Homo Habilis

Australopithecus

Homo Erectus

Neanderthalensis

5.- ¿En qué periodo de la Prehistoria vivió el Homo Habilis?

Neolítico

Paleolítico

Edad de los Metales

Era cenozoica

6.- ¿A qué especie pertenece el ser humano actual?

Homo Habilis

Homo Erectus

Homo Sapiens
Sapiens

Neanderthalensis

7.- Es el hecho que marca el final de la Prehistoria:

El uso del
fuego.

La invención de
la escritura.

La extinción
de los Homo.

El uso de los
metales.

