

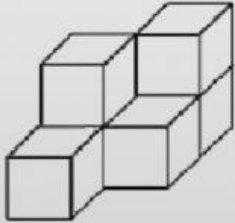
1. Escribe con números ¿cuántos cajas cúbicas tienen y reflexiona, ¿cuántos cajas cúbicas le faltan para formar un cubo?



Tiene:

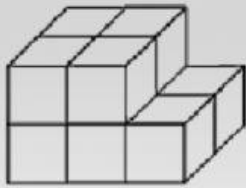
Le faltan:

Cuenta solo las cajas que ves



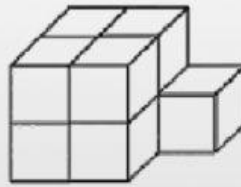
Tiene:

Le faltan:



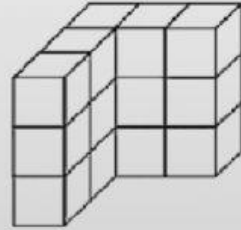
Tiene:

Le faltan:



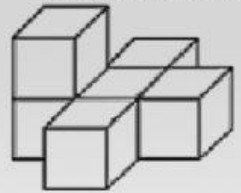
Tiene:

Le faltan:




Tiene:

Le faltan:



Tiene:

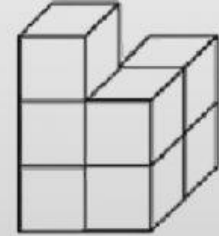
Le faltan:



ESC. PRIM. FEDERAL  
"EZEQUIEL RODRÍGUEZ ARCOS"  
TURNO MATUTINO  
CIUDAD DEL CARMEN, CAMPECHE.



Cuenta solo las cajas que ves



Tiene:

Le faltan: