

Nama murid : ..... Kelas : .....

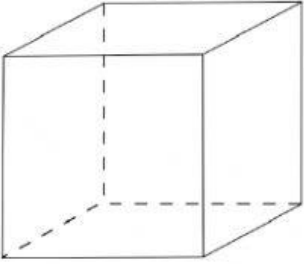
Hari : ..... Matematik Tarikh : .....

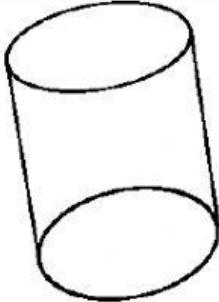
## 7.0 Ruang


### 7.1.1 Mengenal pasti bentuk tiga dimensi berdasarkan huraian ciri-cirinya.

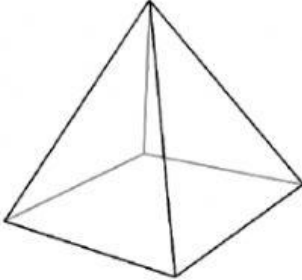
Arahan : Sila padankan suku kata yang sesuai untuk nama-nama bentuk tiga dimensi di bawah.


sfe pi lin ku bo n

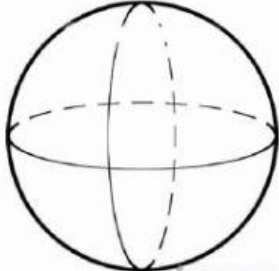
1.   
\_\_bus

4.   
si\_\_der

2.   
ku\_\_id

5.   
\_\_ramid

3.   
ko\_\_

6.   
\_\_ra

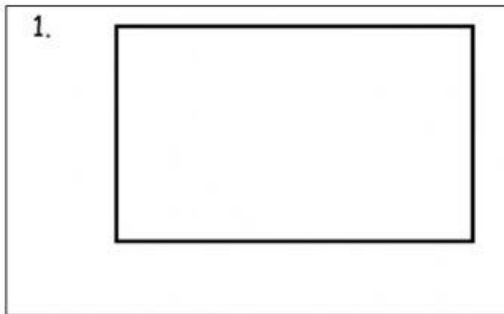
Nama murid : ..... Kelas : .....

Hari : ..... Matematik Tarikh : .....

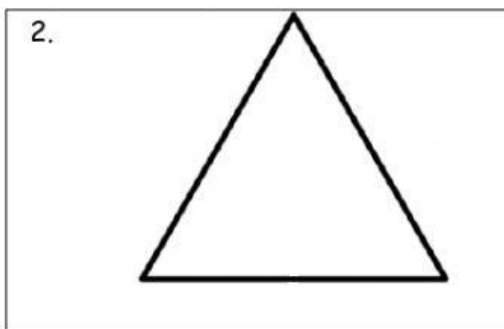
## 7.0 Ruang

### 7.1.2 Mengenal pasti bentuk asas bagi bentuk tiga dimensi.

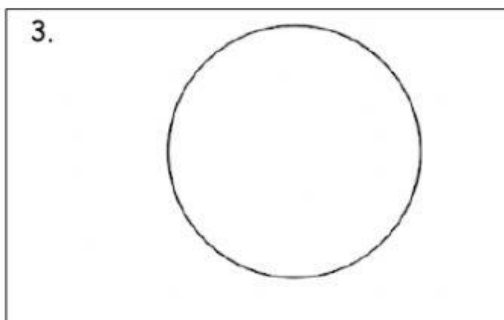
Arahan : Sila padankan suku kata yang sesuai untuk nama-nama bentuk tiga dimensi di bawah.



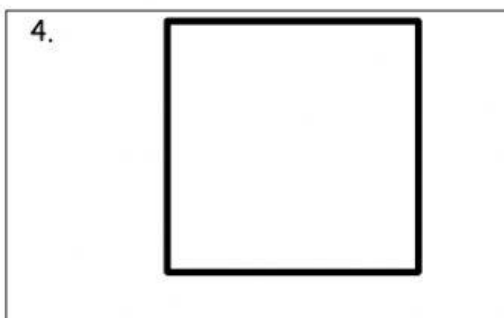
segi empat sama



segi empat tepat



segi tiga



bulat

Nama murid : ..... Kelas : .....

Hari : ..... Matematik Tarikh : .....

## 7.0 Ruang

### 7.1.3 Mengenal pasti pelbagai bentangan bentuk tiga dimensi.

Arahan : Sila padankan bentuk dan bentangan yang betul.

