


Para jugar con los múltiplos....


Encuentra el camino del Astronauta a la Luna,
selecciona los múltiplos de 4.



5	6	3	7	9	11	23	22
4	3	16	20	24	28	9	40
0	8	12	27	55	33	32	36




Encuentra el camino del Astronauta a la Luna,
selecciona los múltiplos de 7.



7	14	2	22	45	65	55	33
9	21	28	35	4	55	67	37
11	23	5	42	49	56	63	70



Encuentra el camino del Astronauta a la Luna,
selecciona los múltiplos de 9.



5	24	12	36	45	65	72	33	25
3	18	27	19	54	63	11	81	1
9	43	55	64	2	67	0	21	90



1- ¿Es cierto que...

a. ...2.520 es múltiplo de 4?

b. ...3.114 es múltiplo de 3?

Colocar una **x** en el casillero que corresponde:

Número	Múltiplo de							
	2	3	4	5	6	8	9	10
2.805								
6.873								
31.560								
84.636								