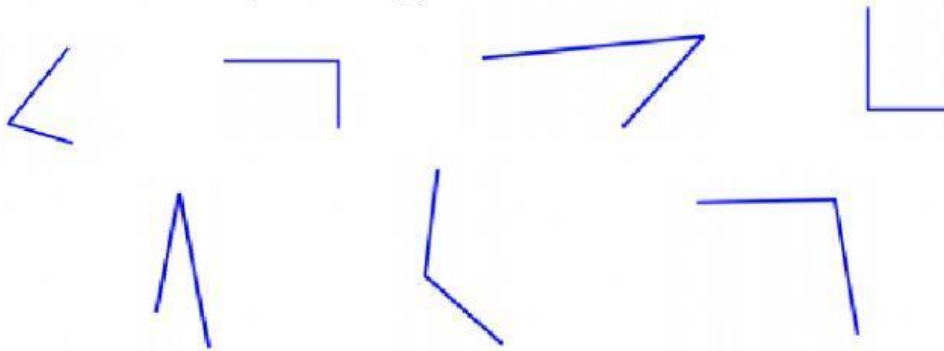


## Leņķi

1. Savieno zīmējumu ar leņķa veidu!



Taisns leņķis

Šaurs leņķis

Plats leņķis

2. Uzraksti, cik leņķu ir katrai figūrai! Uzraksti, cik daudz taisnu leņķu ir katrai figūrai!



\_\_\_\_\_ leņķi

\_\_\_\_\_ taisni leņķi



\_\_\_\_\_ leņķi

\_\_\_\_\_ taisni leņķi




\_\_\_\_\_ leņķi

\_\_\_\_\_ taisni leņķi




\_\_\_\_\_ leņķi

\_\_\_\_\_ taisni leņķi



\_\_\_\_\_ leņķi

\_\_\_\_\_ taisni leņķi



\_\_\_\_\_ leņķi

\_\_\_\_\_ taisni leņķi