
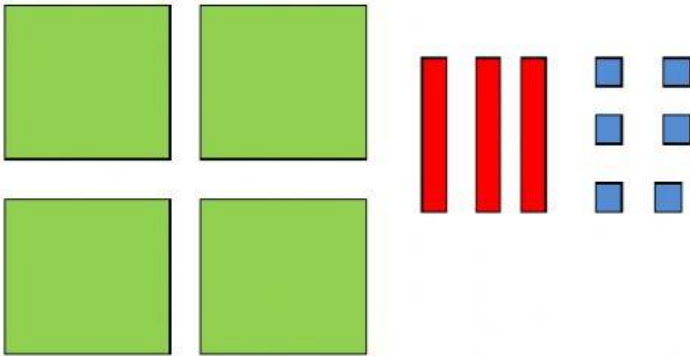


REPRESENTACIÓN GRÁFICA EN BASE 10

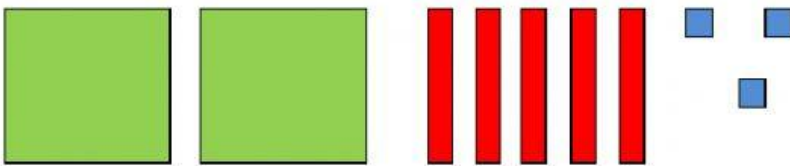
1. Escribe el número que corresponde a cada representación.



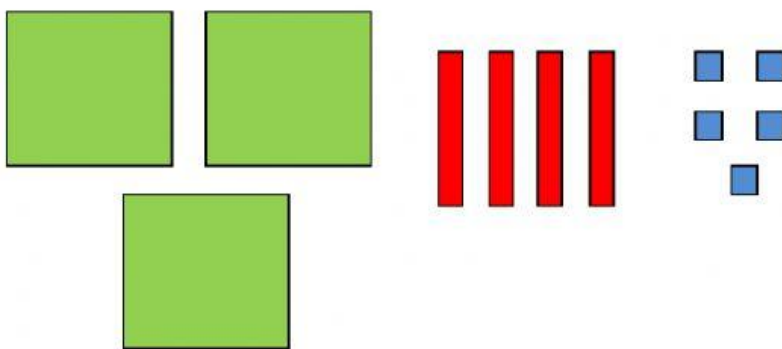
C	D	U



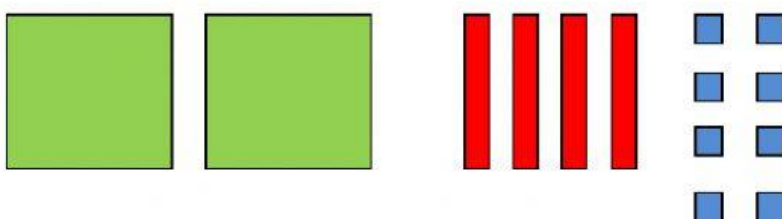
C	D	U



C	D	U



C	D	U



C	D	U

2. Relaciona mediante líneas según corresponde.

1 centena =

300 unidades

2 centenas =

500 unidades

3 centenas =

100 unidades

4 centenas =

200 unidades

5 centenas =

400 unidades

6 centenas =

600 unidades