




EXAMEN DE MATEMÁTICA

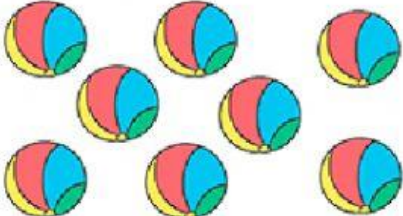
ALUMNO: FECHA: 15/10/2021

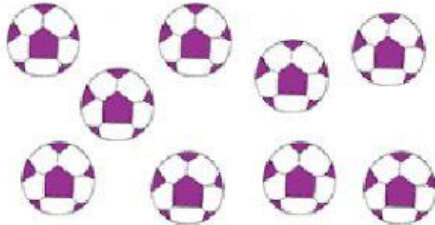
1. CUENTA Y ENCIERRA EL NÚMERO CORRECTO


		
4	1	3

		
2	4	5

		
6	7	5

		
7	8	9

		
9	7	6

		
3	6	5

1. COMPLETA LOS NÚMEROS DEL 1 AL 10



3. ESCRIBE LOS NÚMEROS QUE VAN ANTES Y DESPUÉS DE ...

ANTES	NÚMERO	DESPUÉS
	2	
	4	
	6	
	7	
	9	

REALIZA LAS SIGUIENTES SUMAS

EJERCICIOS

