

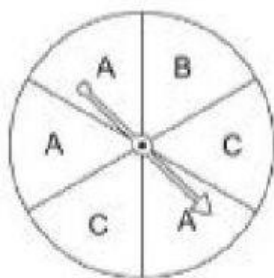
Nome _____

Data _____

Oficina de Matemática - Year 3

1) Qual é a probabilidade do ponteiro parar em cada letra ou número?

a)

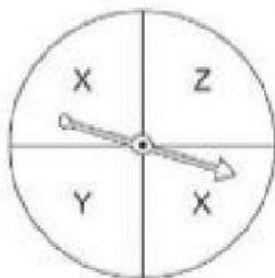


A: _____

B: _____

C: _____

b)

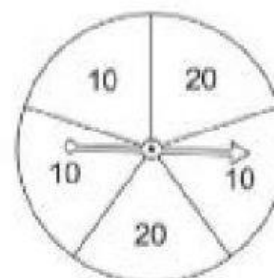


X: _____

Y: _____

Z: _____

c)



10: _____

20: _____

30: _____

2) Classifique a probabilidade de sair a cor azul em cada spinner em provável, improvável, certo, impossível ou igual probabilidade.

