




Ministerio de Educación  
Escuela Bilingüe Rosalinda Newman  
Sumativa de matemáticas fracciones  
Tercer grado

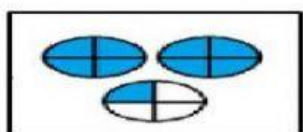


Nombre: \_\_\_\_\_ fecha: \_\_\_\_\_.

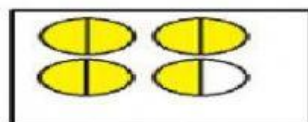
Criterios a evaluar:

Contenido: \_\_\_\_ / 32 puntos ortografía \_\_\_\_ / 5 puntos entrego mi prueba a la hora establecida 3 puntos. Total 40 puntos. Puntos obtenidos \_\_\_\_\_

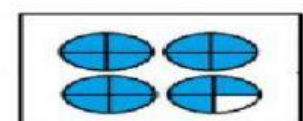
I Parte. Coloca el número mixto correspondiente al lado de cada representación gráfica. Valor 5pts.



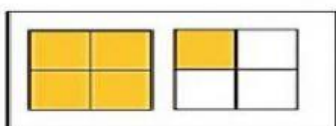
$$= \square \frac{\square}{\square}$$



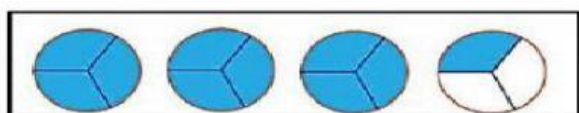
$$= \square \frac{\square}{\square}$$



$$= \square \frac{\square}{\square}$$



$$= \square \frac{\square}{\square}$$



$$= \square \frac{\square}{\square}$$

II Parte. Realiza las siguientes operaciones de los números mixtos y conviértelos a fracciones impropias. Valor 9 pts.

$$2\frac{3}{4} = \underline{\hspace{2cm}} = \underline{\hspace{2cm}}$$

$$3\frac{4}{7} = \underline{\hspace{2cm}} = \underline{\hspace{2cm}}$$

$$9\frac{2}{5} = \underline{\hspace{2cm}} = \underline{\hspace{2cm}}$$

III Parte. Escribe la fracción correspondiente. Valor 5 pts.

$$\frac{7}{9} \underline{\hspace{2cm}}.$$



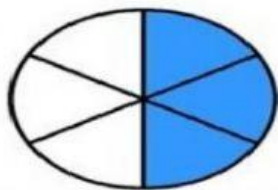
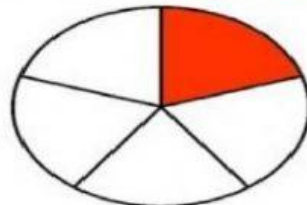




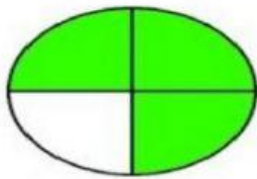
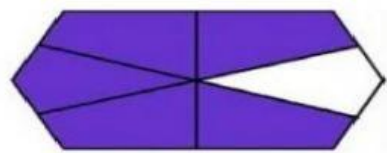
$$\frac{11}{35} \underline{\hspace{2cm}}.$$

$$\frac{4}{3} \underline{\hspace{2cm}}.$$

$$7\frac{5}{8} \underline{\hspace{2cm}}.$$

$$3\frac{1}{9} \underline{\hspace{2cm}}.$$

IV Parte. Observa las figuras y escribe la fracción correspondiente. Valor 8pts.



V Parte. Escribe las fracciones que faltan en la siguiente recta numérica. Valor 5pts.

