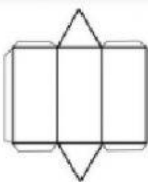




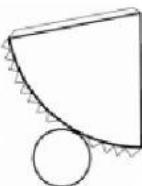
GUÍA DE REPASO DE GEOMETRIA n°2 3°A-B

NOMBRE: _____

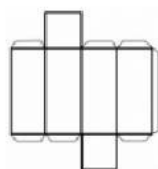
I.- Une cada red con el nombre de la figura que forma:



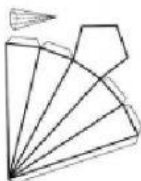
Cubo



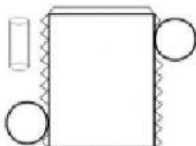
Prisma rectangular



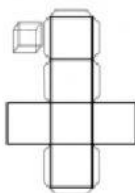
Prisma de base triangular



Cono





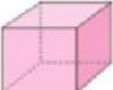




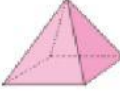



Cilindro



Pirámide de base pentagonal

II.- Completa la tabla indicando el número de caras que tiene cada cuerpo de acuerdo a la forma de cada una de ellas:

Cuerpo Geométrico (Figura 3D)				
				
				
				
				
				
				
				

III. Une el cuerpo geométrico con la imagen similar:

