









I SERIE



VALOR 5 PUNTOS



Instrucciones : cuenta cuántos círculos hay y en la parte de abajo coloca el número que corresponde, luego realiza la suma.

	+		=	<input type="text"/>
_____		_____		

	+		=	<input type="text"/>
_____		_____		

	+		=	<input type="text"/>
_____		_____		

	+		=	<input type="text"/>
_____		_____		

	+		=	<input type="text"/>
_____		_____		



II SERIE

VALOR 5 PUNTOS

Instrucciones : realiza las sumas y coloca tu respuesta en el recuadro.

$$1 + 4 = \square$$

$$6 + 4 = \square$$

$$0 + 5 = \square$$

$$3 + 2 = \square$$

$$4 + 1 = \square$$

$$5 + 9 = \square$$

III SERIE

VALOR 10 PUNTOS

Instrucciones : realiza las siguientes restas.

$4 - 1 =$

$7 - 2 =$

$8 - 2 =$

$9 - 7 =$

$7 - 6 =$

$6 - 6 =$

$3 - 2 =$

$6 - 3 =$

$5 - 1 =$

$3 - 1 =$

IV SERIE

VALOR 10 PUNTOS

Instrucciones : escribe los números que hacen falta para completar la secuencia del 1 al 50.

1		3		5			8		10
---	--	---	--	---	--	--	---	--	----

11				15		17		19	
----	--	--	--	----	--	----	--	----	--

21		23			26			29	
----	--	----	--	--	----	--	--	----	--

31		33		35			38		40
----	--	----	--	----	--	--	----	--	----

	42		44			47		49	
--	----	--	----	--	--	----	--	----	--