

Inicio

1. Cuántas lagartijas hay en la isla y dónde están ubicadas? Escribe tus respuestas en los espacios disponibles.

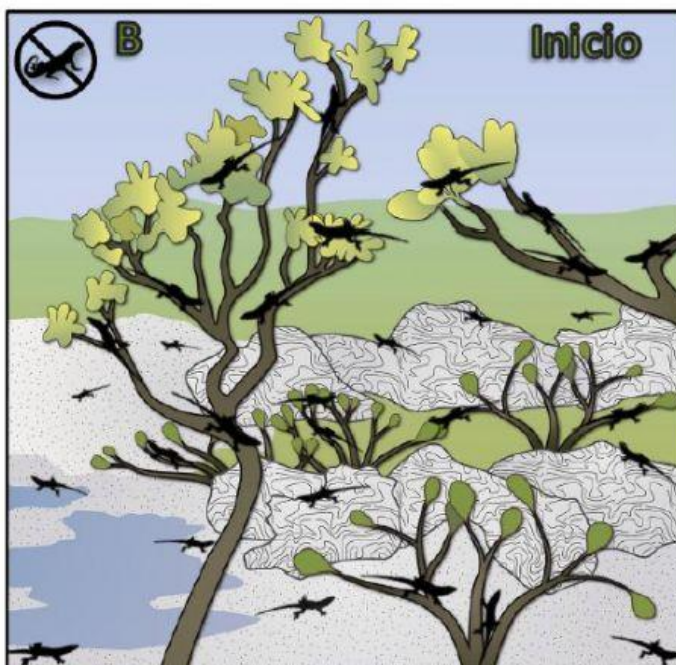
a. Número total de lagartijas en la isla:

b. Número de lagartijas en el suelo:

c. Número de lagartijas en las ramas (osea, no en el suelo):

2. Calcula la *proporción* de lagartijas en el suelo. Divide el número de lagartijas en el suelo (b) para el número total de lagartijas en la isla (a).

→ Proporción de lagartijas en el suelo:



Inicio

1. Cuántas lagartijas hay en la isla y dónde están ubicadas? Escribe tus respuestas en los espacios disponibles.

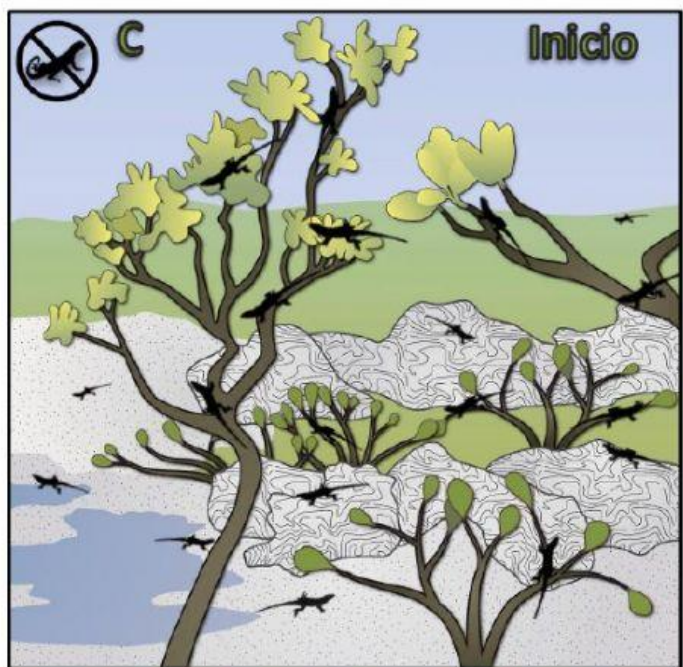
a. Número total de lagartijas en la isla:

b. Número de lagartijas en el suelo:

c. Número de lagartijas en las ramas (osea, no en el suelo):

2. Calcula la *proporción* de lagartijas en el suelo. Divide el número de lagartijas en el suelo (b) para el número total de lagartijas en la isla (a).

→ Proporción de lagartijas en el suelo:



Inicio

1. Cuántas lagartijas hay en la isla y dónde están ubicadas? Escribe tus respuestas en los espacios disponibles.

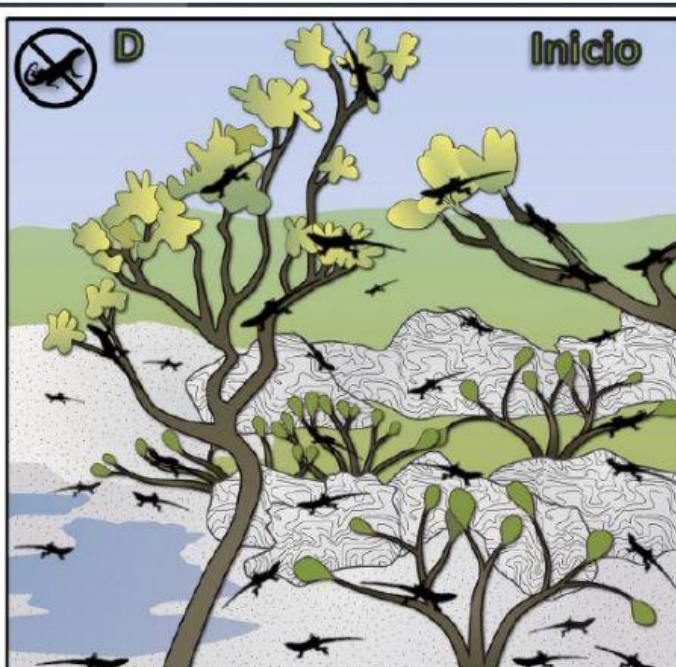
a. Número total de lagartijas en la isla:

b. Número de lagartijas en el suelo:

c. Número de lagartijas en las ramas (osea, no en el suelo):

2. Calcula la *proporción* de lagartijas en el suelo. Divide el número de lagartijas en el suelo (b) para el número total de lagartijas en la isla (a).

→ Proporción de lagartijas en el suelo:



Inicio

1. Cuántas lagartijas hay en la isla y dónde están ubicadas? Escribe tus respuestas en los espacios disponibles.


a. Número total de lagartijas en la isla:

b. Número de lagartijas en el suelo:

c. Número de lagartijas en las ramas (osea, no en el suelo):

2. Calcula la *proporción* de lagartijas en el suelo. Divide el número de lagartijas en el suelo (b) para el número total de lagartijas en la isla (a).

→ Proporción de lagartijas en el suelo:



Inicio

1. Cuántas lagartijas hay en la isla y dónde están ubicadas? Escribe tus respuestas en los espacios disponibles.


a. Número total de lagartijas en la isla:

b. Número de lagartijas en el suelo:

c. Número de lagartijas en las ramas (osea, no en el suelo):

2. Calcula la *proporción* de lagartijas en el suelo. Divide el número de lagartijas en el suelo (b) para el número total de lagartijas en la isla (a).

→ Proporción de lagartijas en el suelo:



Inicio

1. Cuántas lagartijas hay en la isla y dónde están ubicadas? Escribe tus respuestas en los espacios disponibles.


a. Número total de lagartijas en la isla:

b. Número de lagartijas en el suelo:

c. Número de lagartijas en las ramas (osea, no en el suelo):

2. Calcula la *proporción* de lagartijas en el suelo. Divide el número de lagartijas en el suelo (b) para el número total de lagartijas en la isla (a).

→ Proporción de lagartijas en el suelo:



Inicio

1. Cuántas lagartijas hay en la isla y dónde están ubicadas? Escribe tus respuestas en los espacios disponibles.


a. Número total de lagartijas en la isla:

b. Número de lagartijas en el suelo:

c. Número de lagartijas en las ramas (osea, no en el suelo):

2. Calcula la *proporción* de lagartijas en el suelo. Divide el número de lagartijas en el suelo (b) para el número total de lagartijas en la isla (a).

→ Proporción de lagartijas en el suelo:



Inicio

1. Cuántas lagartijas hay en la isla y dónde están ubicadas? Escribe tus respuestas en los espacios disponibles.

a. Número total de lagartijas en la isla:

b. Número de lagartijas en el suelo:

c. Número de lagartijas en las ramas (osea, no en el suelo):

2. Calcula la *proporción* de lagartijas en el suelo. Divide el número de lagartijas en el suelo (b) para el número total de lagartijas en la isla (a).

→ Proporción de lagartijas en el suelo: