

CLASIFICAMOS TRIÁNGULOS TENIENDO EN CUENTA A LA VEZ, LA MEDIDA DE SUS LADOS Y LA DE SUS ÁNGULOS.

Hasta ahora has clasificado los triángulos o bien según la medida de sus lados, o bien según la medida de sus ángulos.

Para terminar, vas a hacerlo teniendo en cuenta los dos aspectos.

EQUILÁTERO

Sus tres lados miden igual.

ISÓSCELES

Tiene dos lados iguales y uno distinto.

ESCALENO

Sus tres lados son diferentes.

ACUTÁNGULO

Tiene los tres ángulos agudos.

RECTÁNGULO

Tiene un ángulo recto.

OBTUSÁNGULO

Tiene un ángulo obtuso.

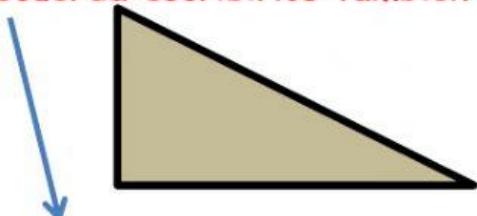
¿De qué clase es cada triángulo?

Elige una opción en cada columna.

Según sus
lados.

Según sus
ángulos.


Recuerda escribirlos también debajo.




Es un triángulo..... y




Es un triángulo..... y




Es un triángulo..... y



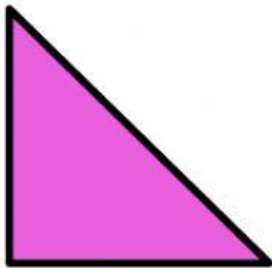
Es un triángulo..... y




Es un triángulo..... y



Es un triángulo..... y



Es un triángulo..... y



Es un triángulo..... y

