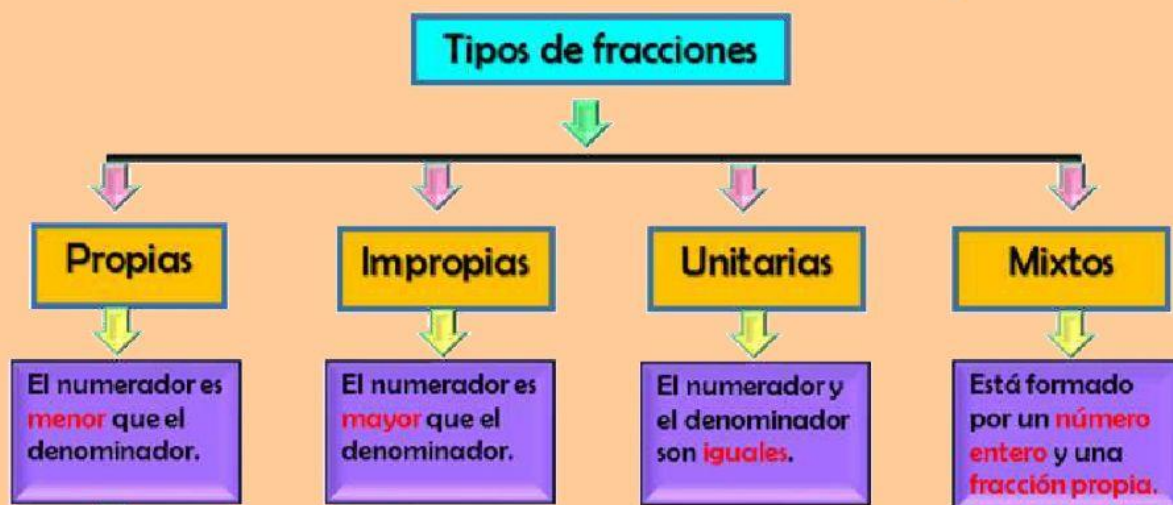


Nombre:

Nº

Fecha:

4to grado:



1. Selecciona qué nombre recibe cada número en la fracción.



Denominador

Numerador

$$\frac{8}{10}$$

Numerador

Denominador



2. Clasifica las fracciones en propias, impropias o unitarias.

$$\frac{2}{5}$$

$$\frac{5}{5}$$

$$\frac{3}{4}$$

$$\frac{7}{3}$$

$$\frac{3}{10}$$

$$\frac{8}{7}$$

$$\frac{9}{5}$$

$$\frac{8}{9}$$

$$\frac{3}{3}$$

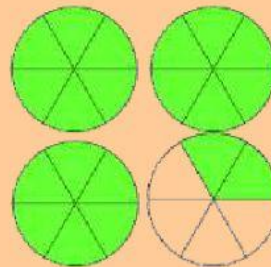
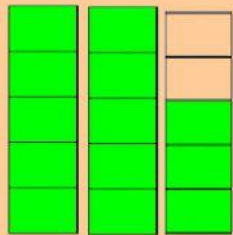

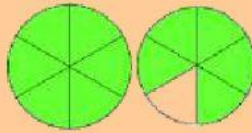
3. Arrastra la fracción al gráfico y selecciona el tipo de fracción.

$$\frac{13}{5}$$

$$3\frac{2}{6}$$


$$\frac{11}{6}$$

$$1\frac{1}{2}$$



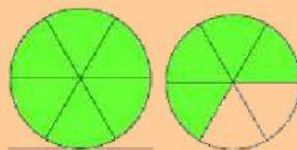
4. Une con una línea el grafico con la fracción impropia y la fracción mixta que corresponde

$$\frac{10}{6}$$



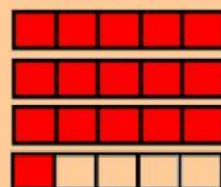
$$4\frac{1}{2}$$

$$\frac{16}{5}$$




$$1\frac{4}{6}$$

$$\frac{9}{2}$$



$$2\frac{7}{9}$$

$$\frac{25}{9}$$



$$3\frac{1}{5}$$