

E. \_\_\_\_\_.  
DIA: \_\_\_\_ / \_\_\_\_ / \_\_\_\_\_. TURMA: \_\_\_\_\_.  
PROFESSORA: \_\_\_\_\_.  
ALUNO (A): \_\_\_\_\_.

**GRAVE UM ÁUDIO RECITANDO A PARLENDIA E ME ENVIE.**



1- VEJA SÓ QUE MACAQUINHA SIMPÁTICA! COMO ELA SE CHAMA?

2- O QUE FAZ ESTA LINDA MACAQUINHA?

3- PARA QUEM SOFIA COZINHA?

4- VEJA NA PARLENDIA A HORA QUE TUDO ACONTECE E MARQUE TODA VEZ QUE ELA APARECER.

5- FAÇA UM X NO RELÓGIO QUE ESTÁ MARCANDO ESTA HORA



# FIQUE LIGADO!

O DIA TEM 24 HORAS QUE SÃO DIVIDIDAS EM MANHÃ, TARDE, NOITE E MADRUGADA.

O RELÓGIO É UM INSTRUMENTO USADO PARA MEDIR O TEMPO. O PONTEIRO PEQUENO MARCA AS HORAS. O PONTEIRO GRANDE MARCA OS MINUTOS..

CADA HORA TEM 60 MINUTOS.

AGORA SÃO 9 HORAS!

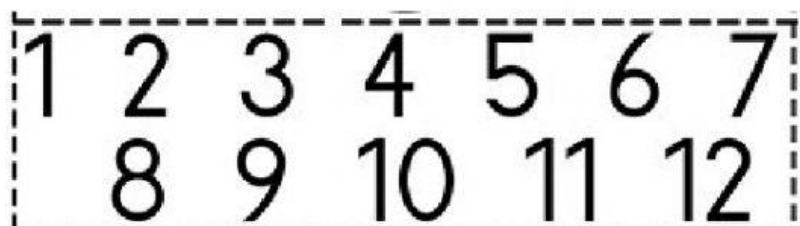
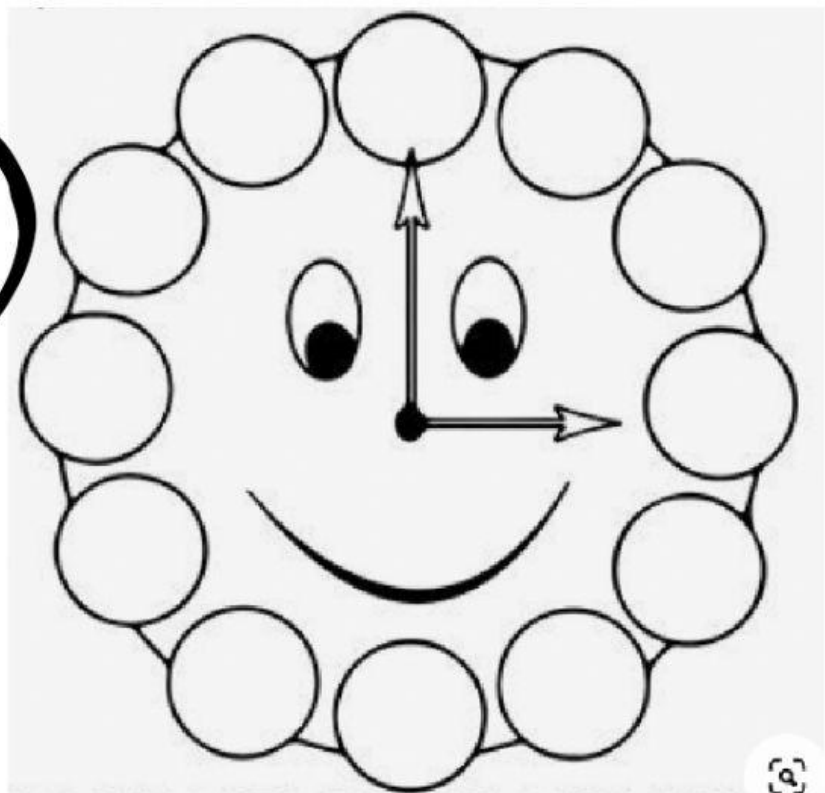


CADA TRACINHO INDICADO NO RELÓGIO VALE 1 MINUTO.









SE O PONTEIRO GRANDE ESTIVER NO 12 ESTÁ MARCANDO ZERO MINUTO.

ARRASTE OS NUMERAIS ATÉ SEUS LUGARES NO RELÓGIO.



**AGORA MOSTRE QUE VOCÊ ENTENDEU TUDINHO! ARRASTE OS INDICADORES DE HORAS AOS SEUS RELÓGIOS CORRESPONDENTES.**

		
<div></div>	<div></div>	<div></div>
		
<div></div>	<div></div>	<div></div>
9:00	5:00	3:00
2:00	8:00	11:00

**EXISTEM VÁRIOS TIPOS DE RELÓGIOS.**



**ESTE É UM RELÓGIO DIGITAL. OS NÚMEROS QUE APARECEM A FRENTE DOS DOIS PONTOS INDICAM AS HORAS. OS NÚMEROS QUE APARECEM ATRÁS DOS DOIS PONTOS INDICAM OS MINUTOS.**



**LIGUE AS HORAS INDICADAS NOS RELÓGIOS DIGITAIS. AS MESMAS INDICADAS NOS RELÓGIOS ANALÓGICOS.**

