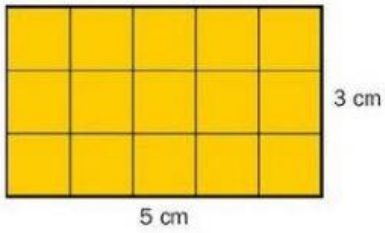
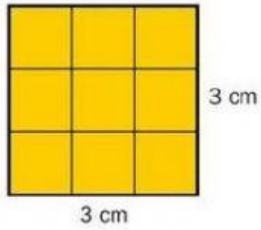


## EVALUACIÓN PARTE 2 DE MATEMÁTICA.

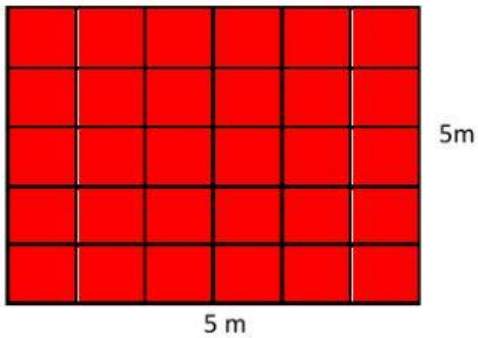
### 1. CALCULA EL ÁREA DEL CUADRADO Y RECTANGULO.



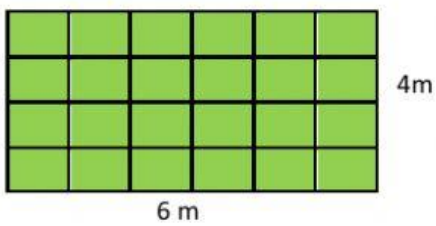
Área:



Área:










Área:



Área:

2. Localiza los objetos que te piden en la cuadrícula.

	A	B	C	D	E
1					
2					A
3					
4					
5		2			

a. ¿En qué coordenadas se encuentra el gallo?

( , )

b. ¿En qué coordenadas se encuentra el lápiz?

( , )

c. ¿En qué coordenadas se encuentra el dado?

( , )

d. ¿En qué coordenadas se encuentra el sol?

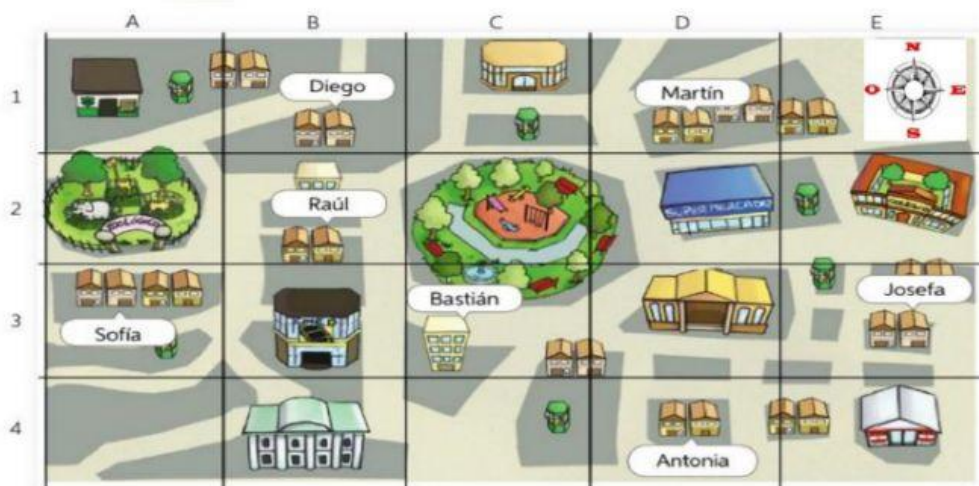
( , )

e. Dibuja una cruz en las coordenadas D,4

f. Dibuja un círculo en las coordenadas A, 5

3. Observa el mapa y responde las preguntas.

#### Barrio del Zoológico



Según el mapa ahora responde las preguntas:

a. ¿Qué casas se ubican cerca de la casa de Raúl?

b. Bastián quiere ir a la casa de Martín que indicaciones le darías?