	Mid Semester Paper Academic Year 2021/ 2022	
	Subject : Matematika	Name :
	Primary : 1	Day/ Date :

I. PILIHAN GANDA

- Jumlah seluruh jari di tangan dan kaki kita adalah
 a. Lima b. Sepuluh c. Dua puluh
- 4 buku + 6 buku = buku
 a. 10 buku b. 11 buku c. 8 buku

- Andi punya 9 pensil
 Andi membeli lagi 2 pensil
 pensil Andi sekarang jumlahnya ...
 a. 10 b. 11 c. 9

- Rani punya 15 permen
 lalu Rani memberikan 5 permenya kepada Sinta.
 Jumlah permen Rani sekarang ada ...
 a. 10 b. 20 c. 11

- Gambar di samping yang menunjukkan bangun tabung adalah
 a. 1 b. 2 c. 3




1



2

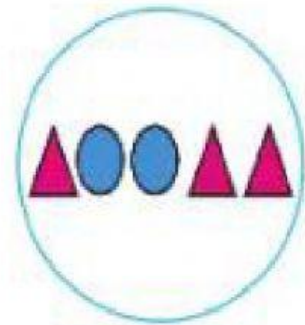


3


- 
 Gambar di samping adalah contoh dari bangun ruang
 a. Balok b. Kubus c. Bola

- Yang bukan bangun ruang adalah
 a. Bola b. Persegi c. Tabung

8. Pilihlah gambar yang sama dengan pola bilangan berdasarkan gambar berikut.



II. ISIAN

1. 6 pensil + 2 pensil = pensil.
2. Ibu membeli 12 apel. Ibu memberikan 5 apel kepada Nina. Jumlah apel ibu sekarang adalah
3. Siska membeli 4 donat. Kemudian ibu beli lagi 5 donat.
Adek makan 3 donat. Jumlah donat sekarang adalah
4. Contoh dari bangun ruang balok adalah
5. 
Isilah pola gambar dia atas.

III. URAIAN

1. Di dalam aquarium ada 12 ikan.
Ikannya diambil 4 ikan.
Jadi

12		4	=	
----	--	---	---	--
2.


+

= ...?

--	--	--	--	--
3. Tuliskan contoh soal cerita penjumlahan dengan bilangan 10 dan 5.
4. 
Pola bilangan gambar di atas adalah....
5. Sebutkan 2 contoh bangun ruang Balok dan Bola.