

# COLEGIO TECNOLÓGICO HOMBRE DE NAZARET

Hoja de trabajo Jhonatan y Guillermo



## TRIANGULOS

### 1. SOPA DE LETRAS.

R	I	S	Ó	S	C	E	L	E	S	O
E	R	O	I	D	X	Y	S	D	T	M
C	S	O	E	X	Z	X	D	H	R	H
T	Y	O	M	X	Z	S	F	L	A	K
Á	Y	Y	C	B	O	Z	Ñ	K	P	Z
N	Z	J	S	D	O	V	D	Z	E	Z
G	X	S	F	T	I	B	J	V	C	B
U	V	B	G	Y	Q	N	D	B	I	M
L	M	H	P	U	P	S	D	I	O	P
O	T	R	A	P	E	Z	O	I	D	E

Encontrar las 4 palabras

2. *Colocar nombre a estos triángulos*



3. Identificar si cada Afirmación es verdadera o falsa.

1. El equilátero tiene tres lados congruentes.


2. El triángulo tiene tres ángulos rectos.

3. El obtusángulo tiene un ángulo agudo.


4. El rectángulo tiene un ángulo recto.

5. El escaleno tiene tres lados iguales.


4. Une con una línea la repuestas según sus lados.



Escaleno tres  
lados diferentes



Rectángulo un  
ángulo recto



Equilátero: tres  
lados congruentes