

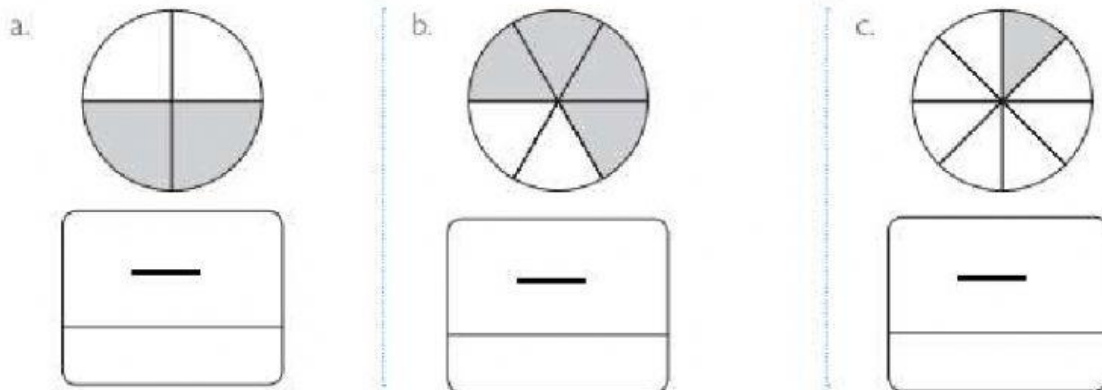


Tema: Refuerzo académico Matemática

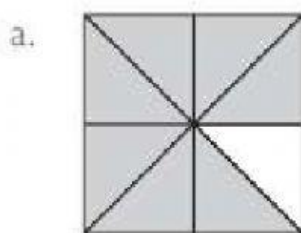
NOMBRE: _____

FECHA: _____

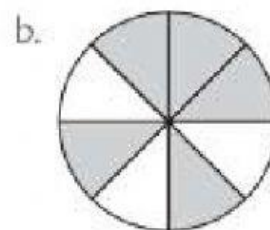
1- Escribe en números y letras las fracciones representadas en cada caso




2- Encierra la fracción que corresponde a la parte coloreada de cada figura.



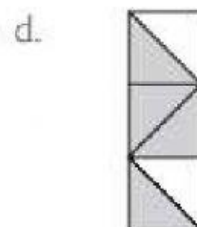
$\frac{1}{8}$ $\frac{7}{8}$ $\frac{8}{7}$ $\frac{6}{8}$



$\frac{3}{8}$ $\frac{7}{8}$ $\frac{5}{8}$ $\frac{6}{8}$



$\frac{5}{9}$ $\frac{4}{9}$ $\frac{9}{5}$ $\frac{6}{9}$



$\frac{4}{5}$ $\frac{4}{6}$ $\frac{3}{6}$ $\frac{2}{6}$



3- Relaciona las siguientes cantidades decimales.

104,21	Ciento cuatro unidades y ciento un milésimos
21,201	Veintiún unidades y ciento cuatro milésimos
21,104	Ciento cuatro unidades y veintiún centésimos
104,101	Veintiún unidades y doscientos un milésimos

4- Une las semirrectas con el decimal correspondiente.

	1,2
	0,6
	0,8
	0,3

5- Encuentra los siguientes números decimales en la sopa de números.

5	6	3	4	2	8	4	6	5	7	1	0
9	6	5	2	0	4	1	3	4	8	4	2
8	3					3	2	6	8	7	4
3	0					6	2	9	1	2	0
9	5					0	8	1	0	3	1
1	8					4	1	0	8	2	5
5	2	1	9	0	1	4	0	6	0	3	9
0	2	3	6	5	4	0	1	5	8	4	6
6	3	4	3	5	8	2	8	9	4	7	0
3	7	4	5	2	3	0	4	7	2	6	8
6	5	3	9	6	8	7	5	0	1	9	2
6	3	4	8	2	1	0	3	7	3	5	4

62 enteros y 9 décimos.
6 enteros y 520 milésimos.
14 centésimos
66 enteros y 305 milésimos.
1 entero y 3 centésimos