



ESCUELA "EUSEBIO IBAR SCHEPELER"

Docente: **Beatriz Labraña H.**

Asignatura: **Matemática**

"Guía de trabajo"

Curso: 6° año básico

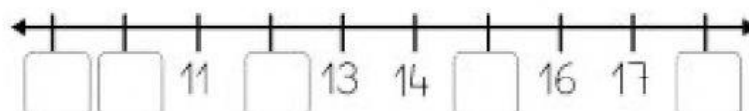
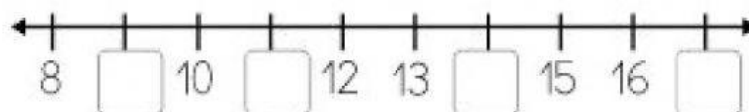
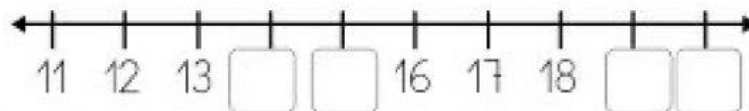
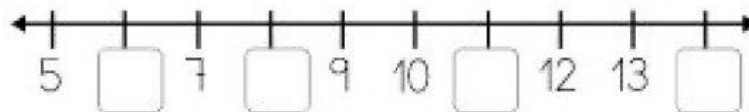

INSTRUCCIONES:

- ✓ Lee con atención cada una de las preguntas y luego responde con sus propios conocimientos
- ✓ El tiempo para responder la evaluación es el que necesites, no hay límites.
- ✓ Las dudas se pueden realizar por WhatsApp a la profesora.

I. Completa cada fila con los números que faltan, ubicando el antecesor y sucesor donde corresponda. (26 puntos)



=Antecesor y sucesor=

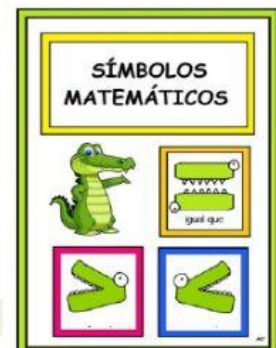


¿Qué número va después de ? ... ¿Y antes de ? ...

II. Usa el símbolo igual (=) y los símbolos no igual (>,<) en las siguientes situaciones: (1 punto c/u)

> > < < = > >

12	○	20	11	○	12
15	○	15	18	○	15
17	○	13	9	○	7



III. Lee los siguientes números en palabras para luego escribirlos en dígitos.

- | | |
|---|---------------------------------------|
| a) Cuarenta y siete: <input type="text"/> | e) veinticuatro: <input type="text"/> |
| b) Veintiocho: <input type="text"/> | f) Trece: <input type="text"/> |
| c) Quince: <input type="text"/> | g) Cincuenta: <input type="text"/> |
| d) Treinta y seis: <input type="text"/> | h) Catorce: <input type="text"/> |

(1 punto c/u)

IV. Ubica correctamente los números en la cuadrícula y luego resuelve las adiciones. (3 puntos c/u)



Resolviendo adiciones



Atención: Primero comenzamos por las unidades y luego las decenas

14 + 11		15 + 12		17 + 2		11 + 7	
D	U	D	U	D	U	D	U

V. Escribe la hora que indica cada reloj. (2 puntos c/u)

Recuerda...



La Hora

:	:	:	:
:	:	:	: