

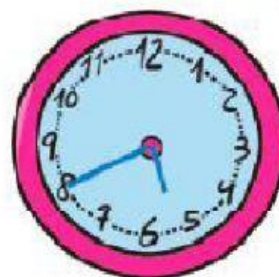
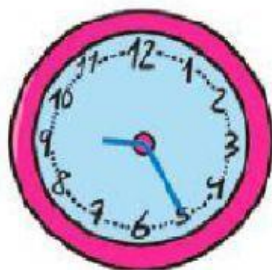
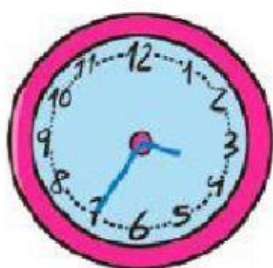
MATEMÁTICAS: PRUEBA EVALUABLE TEMA 9**1. Relaciona y une con flechas.**

TRIMESTRE
AÑO BISIESTO
SEMESTRE
AÑO
LUSTRO
SIGLO
DÉCADA

5 AÑOS
3 MESES
366 DÍAS
12 MESES
100 AÑOS
6 MESES
10 AÑOS

**2. Calcula:****Ej. 30 lustros:      3      décadas****6) 9 meses:                   trimestres****1) 3 siglos:                   años****7) 2 años:                   semestres****2) 60 décadas:           años****8) 3 años:                   meses****3) 8 lustros:               años****9) 5 décadas:               lustros****4) 2 milenios:             siglos****10) 5 semestres:           trimestres****3. Calcula los segundos:****Ej.: 10 minutos = 600 segundos****1) 12 minutos =****4) 6 horas y 23 minutos =****2) 23 minutos =****5) 3 horas y 12 minutos =****3) 45 minutos =****6) 1 hora y 30 minutos =****4. Calcula los minutos****Ej.: Un cuarto de hora = 15 minutos****1) 2 horas y cuarto =****4) 8 horas y media =****2) 1 hora y media =****5) 3 horas y tres cuartos =****3) Tres cuartos de hora =****6) Un día y tres horas y cuarto =**

## 5. ¿Qué hora marcan estos relojes?



## 6. Relaciona y une con flechas.

2 días
2.400 minutos
3 días
3 horas
1 hora y cuarto
2 horas y media

48 horas
180 minutos
40 horas
75 minutos
150 minutos
72 horas

## 7. Completa la tabla con los siglos correspondientes. Recuerda que se escriben con números romanos.

Año 1562	Siglo	Año 2001	Siglo
Año 256	Siglo	Año 1936	Siglo
Año 711	Siglo	Año 1325	Siglo
Año 1492	Siglo	Año 2020	Siglo

8. Si Javier nació 5 décadas antes que Paula y Paula nació en 2005. ¿En qué año nació Javier?

DATOS

OPERACIÓN

SOLUCIÓN

9. Pedro se acuesta a las 11 y cuarto y pone el despertador a las 8 y media de la mañana. ¿Cuántas horas tiene previsto dormir?

DATOS

OPERACIÓN

SOLUCIÓN

10. Victoria tardó 1h y 20min en preparar su fiesta de cumpleaños y Vanesa tardó 85min en preparar la suya. ¿Quién tardó menos?

DATOS

OPERACIÓN

SOLUCIÓN