

**PROJETO- RECUPERAÇÃO DA APRENDIZAGEM**

**ENSINO FUNDAMENTAL - 5º ANO**

**PROFESSORA: Leila Tostes**



**ALUNO(A):**

**DATA:** /10/2021

## MATEMÁTICA

### SISTEMA DE NUMERAÇÃO DECIMAL

1) Observe os desenhos dos diferentes ábacos abaixo e faça o que se pede.



Fonte.: <https://gartic.com.br/muzinha/gallery/1293706>, <https://escolakids.com.br>

a) Represente cada um dos numerais formados em cada ábaco por meio de algarismos.



b) Escreva esses numerais por extenso.



c) Complete os números formados no quadro de ordens.

2ª CLASSE (CLASSE DOS MILHARES)			1ª CLASSE (CLASSE DAS UNIDADES SIMPLES)		
6ª ORDEM	5ª ORDEM	4ª ORDEM	3ª ORDEM	2ª ORDEM	1ª ORDEM
CENTENAS DE MILHAR	DEZENAS DE MILHAR	UNIDADES DE MILHAR	CENTENAS	DEZENAS	UNIDADES

2) (SAEP 2013) O Sr. Telmo tem um hobby de colecionar camisetas dos clubes de futebol do Brasil. No momento consta na coleção dele 1.230 camisetas. Esse número é composto de:

- A) 1 unidade de milhar, 2 dezenas e 30 unidades.
- B) 1 unidade de milhar, 230 unidades.
- C) 1 unidade de milhar, 2 centenas, 3 dezenas.
- D) 1 unidade de milhar, 230 unidades.

3) Coloque os números das informações abaixo em ordem crescente.

No Campeonato Brasileiro 2017, o Corinthians foi o time campeão.  
O número médio de torcedores pagantes por partida foi de **34 796**.

Fonte: **Globo Esporte**. Disponível em: <<http://bit.ly/2rqannZ>>.

Cajamar é uma cidade do interior paulista com uma população estimada de apenas **73 921** pessoas.

Fonte: **IBGE**. Disponível em: <<http://bit.ly/2Dpjfej>>.

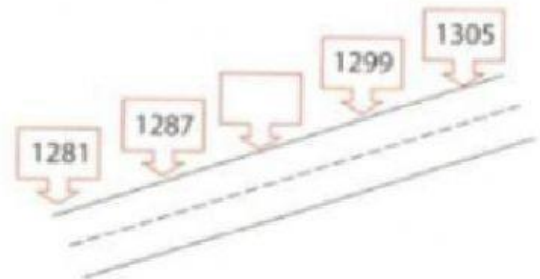
A distância em linha reta (rota aérea) entre o centro geográfico do Brasil e o centro do Japão é de **17 369** quilômetros.

Fonte: **Brasil Distância**. Disponível em: <<http://bit.ly/2DOENTj>>.

4) (SARESP) Construíram uma estrada que liga as cidades de "Felicidades" e "Alegria". Existe um marco a cada 6 metros.

O valor do marco que está em branco é

- A) 1 283
- B) 1 293
- C) 1 299
- D) 1 311



5) Observe os dois números e complemente as informações abaixo:

41 479

80 949

No ano de 2017 o estado do Ceará sofreu uma epidemia de chikungunya. Enquanto no Brasil ocorreram \_\_\_\_\_ casos confirmados da doença, somente no Ceará tiveram \_\_\_\_\_.

Escreva os números por extenso:

41 479-

80 949-