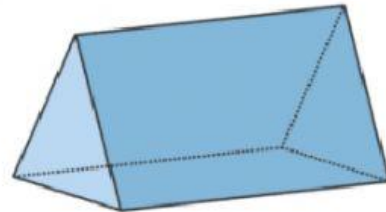

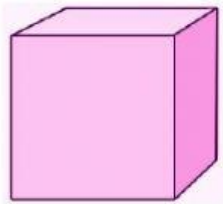


1 Pilihan Ganda

Berikut ini yang termasuk gambar balok adalah



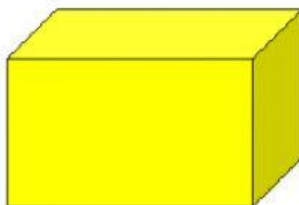
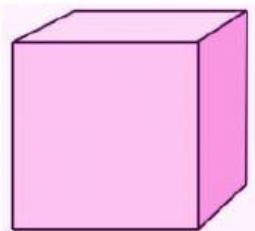
2 Isian singkat/essai



Nama bangun di samping adalah

Jelaskan apa yang kamu ketahui tentang gambar di samping!

3 Drop Down



4 Check Box

Berikut ini yang merupakan gambar bangun ruang adalah

Lingkaran

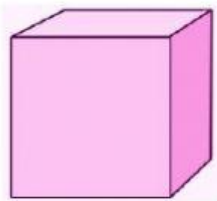
Kerucut

Balok


Persegi

5 Join Arrow

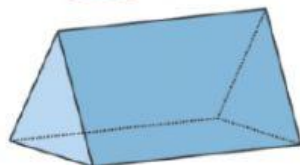
Jodohkan antara gambar dan nama bangun dengan cara menarik garis penghubung!



Prisma



Kerucut




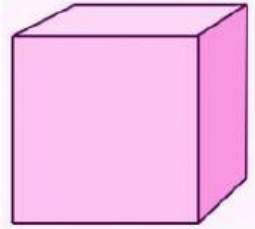
Bola



Kubus

6 Drag and Drop

Tarik gambar berikut ke dalam kotak yang sesuai!



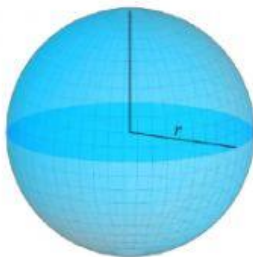
Balok

Kubus

Kerucut

7 Listening

Dengarkan suaranya, dan pilih benar atau salah!



Benar

Salah

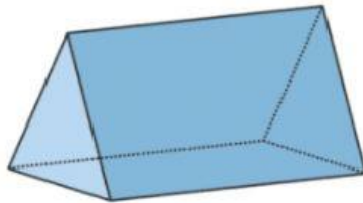
Benar

Salah

8

Speaking

Rekam suaramu untuk menyebutkan nama bangun berikut dengan cara menekan tombol rekam!



9

Word Search

Carilah nama-nama bangun ruang!

A	B	A	L	I	N	G	U
T	A	P	U	T	R	R	O
P	L	P	R	I	S	M	A
B	O	C	D	K	E	F	G
L	K	E	R	U	C	U	T
O	O	T	A	B	U	N	G
K	L	U	I	U	J	I	H
L	I	M	A	S	K	U	I