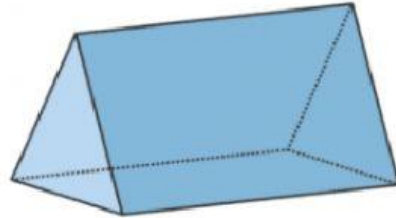

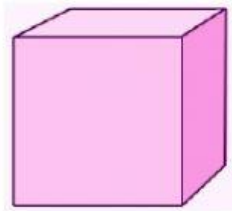



1 Pilihan Ganda

Berikut ini yang termasuk gambar balok adalah




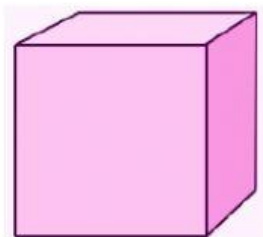
2 Isian singkat/esai



Nama bangun di samping adalah

Jelaskan apa yang kamu ketahui tentang gambar di samping!

3 Drop Down



4 Check Box

Berikut ini yang merupakan gambar bangun ruang adalah

Lingkaran

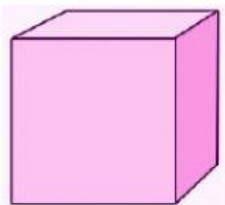
Kerucut

Balok

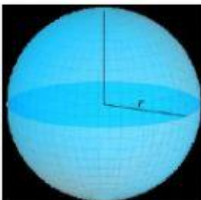
Persegi



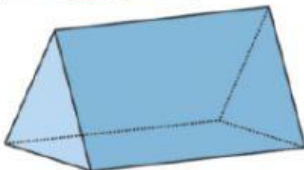
Jodohkan antara gambar dan nama bangun dengan cara menarik garis penghubung!



Prisma



Kerucut



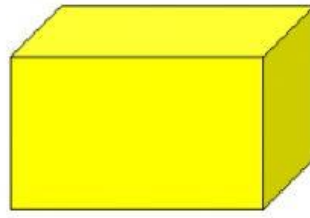

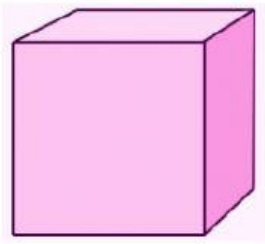
Bola



Kubus



Tarik gambar berikut ke dalam kotak yang sesuai!




Balok

Kubus

Kerucut

7 Listening

Dengarkan suaranya, dan pilih benar atau salah!



Benar

Salah

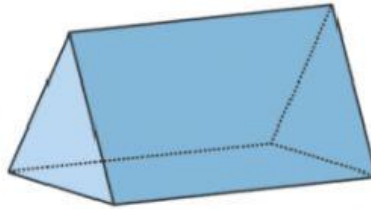


Benar

Salah

8 Speaking

Rekam suaramu untuk menyebutkan nama bangun berikut dengan cara menekan tombol rekam!



Carilah nama-nama bangun ruang!

A	B	A	L	I	N	G	U
T	A	P	U	T	R	R	O
P	L	P	R	I	S	M	A
B	O	C	D	K	E	F	G
L	K	E	R	U	C	U	T
O	O	T	A	B	U	N	G
K	L	U	I	U	J	I	H
L	I	M	A	S	K	U	I

