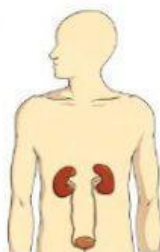
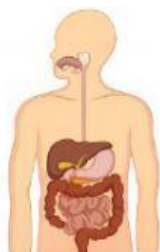


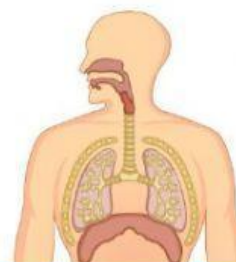
LOS aparatos

I. Completa:

Aparato digestivo	Aparato respiratorio	Aparato circulatorio	Aparato locomotor	Aparato urinario	Aparato locomotor
----------------------	-------------------------	-------------------------	----------------------	---------------------	----------------------



--	--	--



--	--	--

2. Une:

Aparato locomotor ●

Aparato urinario ●


Aparato digestivo ●

Aparato respiratorio ●

Aparato circulatorio ●

- nos ayuda a obtener los nutrientes de la comida que comemos.
- nos ayuda a obtener oxígeno y expulsar dióxido de carbono al respirar.
- nos ayuda a transportar la sangre por el cuerpo.
- nos ayuda a movernos.
- nos ayuda a expulsar el exceso de agua y los desechos cuando vamos al baño.

3. ¿Qué aparato estoy utilizando?



4. ¿Verdadero o falso?

- Utilizamos el aparato locomotor al correr y saltar.
- El intestino es un órgano del aparato circulatorio.
- Utilizamos el aparato urinario cuando vamos al baño.
- Utilizamos el aparato respiratorio para obtener oxígeno.
- Los pulmones son un órgano del aparato locomotor.
- Usamos el aparato respiratorio para absorber nutrientes.
- La vejiga es un órgano del aparato urinario.
- El corazón forma parte del aparato respiratorio.

5. Escoge el aparato al que pertenecen los siguientes órganos:



Pulmones



Músculos



Corazón



Vasos
sanguíneos



Estómago



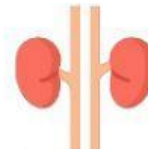
Vejiga



Boca




Huesos



Riñones



Intestino



Nariz

6. Completa las oraciones:

Los aparatos son: aparato _____, aparato _____, aparato _____, aparato _____ y aparato _____.

El aparato digestivo absorbe los _____ y algunos de sus órganos son la boca, el _____ y el _____.

El aparato _____ elimina el exceso de agua y los desechos. Algunos de sus órganos son los _____ y la _____.

El aparato circulatorio transporta la sangre por todo el _____ y algunos de sus órganos son el _____ y los _____ sanguíneos.

El aparato locomotor nos ayuda a mover el _____. Algunos de sus órganos son los _____ y los _____.

El aparato _____ nos ayuda a obtener oxígeno y eliminar dióxido de carbono. Sus órganos son la _____ y los _____.