

Examen Bimestral de matemática y R.M

Relaciona cada nombre con el numero que corresponde

Cuatrocientos uno

308

Quinientos diez

401

Cuatrocientos doce

510

Trescientos ocho

412

Escribe el número que corresponde:

5 C + 2 U + 5 D



6 D + 5 U + 3 C



4 D + 6 U + 5 C



Escribe el número que corresponde:

400 + 10 + 5



100 + 40 + 2

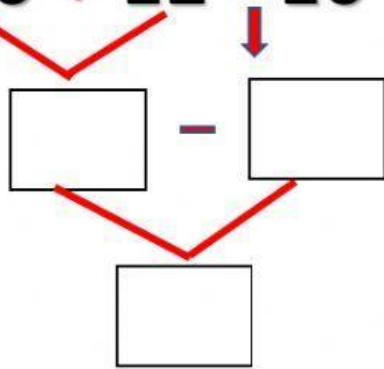


500 + 10 + 8

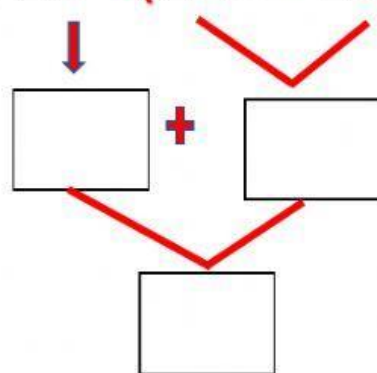


Resuelve las siguientes operaciones combinadas:

a) $250 + 12 - 10$





b) $20 + (225 - 10)$




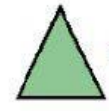
Operadores matemáticos:

Cada símbolo tiene un valor numérico para hallar la suma o la resta.

 =

 =



 =

 =

 +  =

 -  =

 -  =

 +  =

Ordena los números en forma ascendente:

500	523	490	512	530
-----	-----	-----	-----	-----

--	--	--	--	--

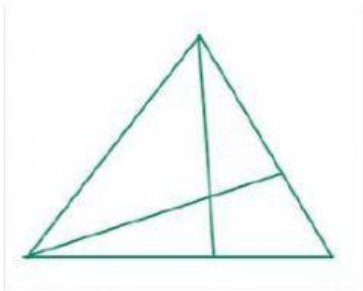
Sucesiones numéricas:

a) 50, 52, 54

b) 30, 34, 38

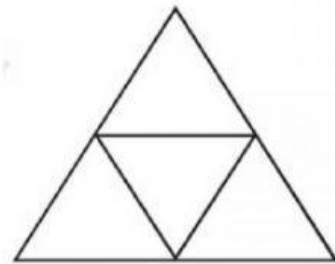
CONTEO DE TRIANGULOS:

¿Cuántos triángulos hay en la figura?



6 7 8

¿Cuántos triángulos hay en la figura?



5 4 3

Ordena los números en forma descendente:

450	423	390	392	452
-----	-----	-----	-----	-----

--	--	--	--	--