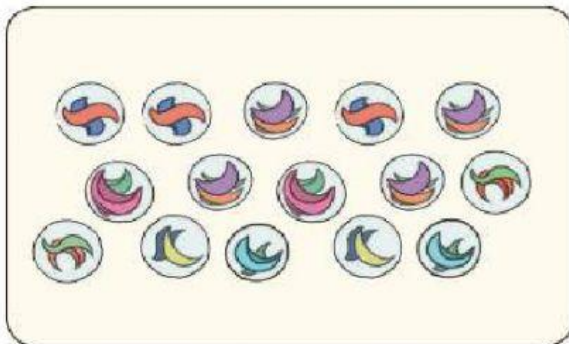


Bacalah terlebih dahulu materi berikut ini!


Setelah mandi sore, Beni bermain di kamarnya.

Sambil bermain, Beni belajar berhitung.

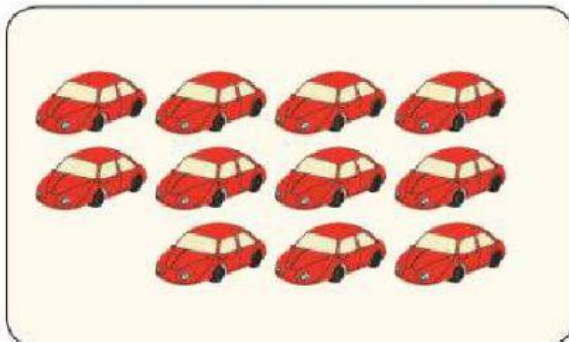
Dia menghitung benda-benda yang ada di kamar.




Kelereng ada 15



Spidol berwarna ada 12



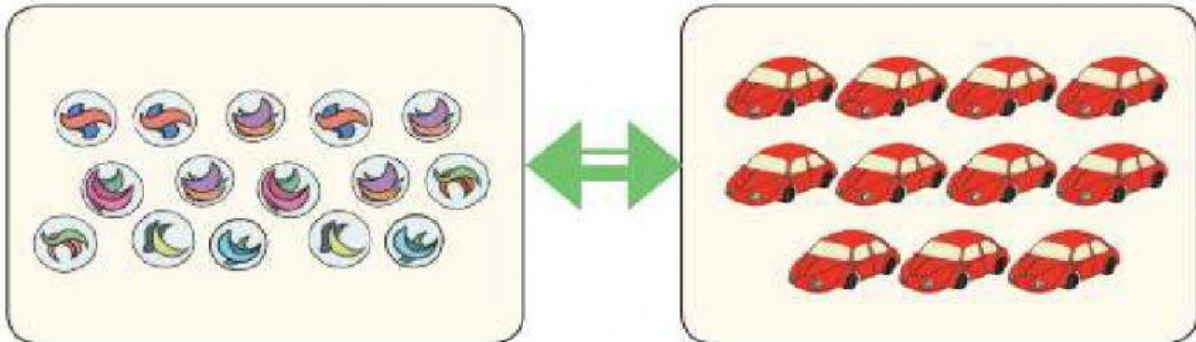
Mobil-mobilan ada 11



Buku tulis ada 12

Bacalah terlebih dahulu materi berikut ini!

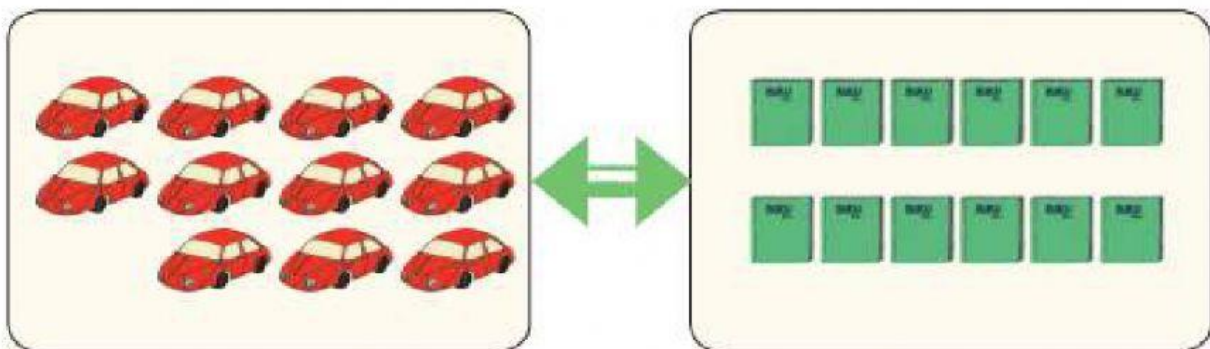
Beni membandingkan banyak benda-benda itu.



Kelereng Beni **lebih banyak** daripada mobil-mobilan.

15 lebih dari 11

11 kurang dari 15



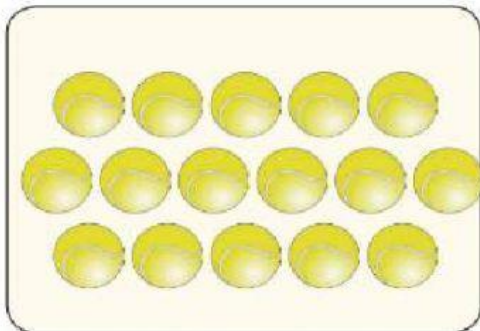
Mobil-mobilan Beni **lebih sedikit** dari buku tulis Beni.

11 kurang dari 12

12 lebih dari 11

Kerjakan soal-soal berikut!

Tentukan dengan "kurang dari" atau "lebih dari"



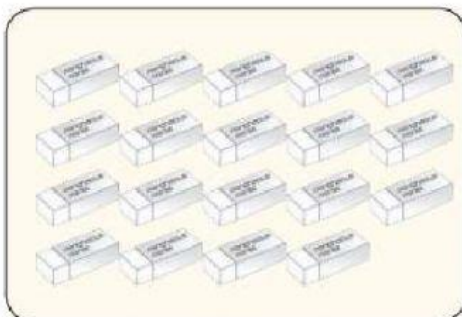
16




14

16 dari 14

14 dari 16



19



17

Perhatikan bilangan di atas!

Bilangan yang lebih dari 18 adalah

Bilangan yang kurang dari 18 adalah

Manakah yang lebih banyak?

Pilihlah bilangan yang lebih banyak.

14	atau	18
<input type="checkbox"/>		<input type="checkbox"/>
13	atau	11
<input type="checkbox"/>		<input type="checkbox"/>
16	atau	19
<input type="checkbox"/>		<input type="checkbox"/>
17	atau	15
<input type="checkbox"/>		<input type="checkbox"/>
18	atau	16
<input type="checkbox"/>		<input type="checkbox"/>

Manakah yang lebih sedikit?

Pilihlah bilangan yang lebih sedikit.

14	atau	11
<input type="checkbox"/>		<input type="checkbox"/>
16	atau	18
<input type="checkbox"/>		<input type="checkbox"/>
13	atau	19
<input type="checkbox"/>		<input type="checkbox"/>
14	atau	17
<input type="checkbox"/>		<input type="checkbox"/>
19	atau	16
<input type="checkbox"/>		<input type="checkbox"/>