

Nombre: \_\_\_\_\_ Fecha: \_\_\_\_\_

Aplicar habilidades y conocimientos mediante diferentes propuestas.

### Observación

1.- Une las imágenes con el nombre correcto



● Globo Terráqueo

● Mapa Físico

● Mapa Político

## COMPLETAR

2.- Completa la respuesta en las siguientes afirmaciones.

Para encontrar un río necesitamos el \_\_\_\_\_

Para construir una casa necesitamos un \_\_\_\_\_

Para encontrar un país necesito un mapa \_\_\_\_\_

Para ubicar una cordillera necesitamos un mapa \_\_\_\_\_

El globo terráqueo es una representación de la tierra de manera \_\_\_\_\_

## ESCRIBIR





3.- Escribe 1 semejanza que hay entre mapas y globo terráqueo.


## REFLEXIÓN

4.- Si en la clase te cuenta tu maestra que viajo hacia China y tienes la inquietud de saber dónde queda ¿Qué mapa utilizarías? y ¿por qué?


## RÚBRICA

Selecciona la carita según tu conocimiento.

	ESCALA			
PARÁMETROS				
Puedo diferenciar entre mapa físico y político.				
Puedo diferenciar entre mapa y globo terráqueo.				
Se la semejanza que hay entre mapa y globo terráqueo.				