

"Somos una institución líder en educación activa en el desarrollo humano, académico y tecnológico de nuestros estudiantes."	COLEGIO TECNICO COMERCIAL YAREGUI	Código: RG-GA-17 Versión:01 Fecha:04-04-2013	
	QUIZ		

Nombre del estudiante:	Fecha:
Docente: Margie Alexandra Ariza Carrero	QUIZ #2
Asignatura: BIOLOGÍA	Grado: SEGUNDO

BIOLOGÍA 2°

Quiz #2


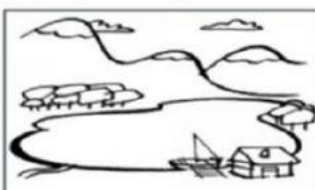
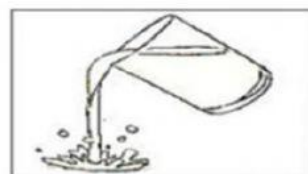

1. Escribe el nombre correcto de cada estado de la materia.




--	--	--

2. Da clic en la opción correcta.

a) Cuáles de las siguientes imágenes representan un estado gaseoso.



"Somos una institución líder en educación activa en el desarrollo humano, académico y tecnológico de nuestros estudiantes."	COLEGIO TECNICO COMERCIAL YAREGUI	Código: RG-GA-17 Versión:01 Fecha:04-04-2013	
	QUIZ		

3. . Lea las siguientes frases y luego seleccione la respuesta correcta.

1.1.-El agua en estado sólido se encuentra en forma de:

Hielo, nevados y glaciares

Océanos, mares, lagos y ríos

Nubes o vapor de agua

1.2.-El agua en estado líquido se encuentra en forma de:

Nubes o vapor de agua

Hielo, nevados y glaciares

Océanos, mares, lagos y ríos

1.3.- El agua en estado gaseoso se encuentra en forma de:

Hielo, nevados y glaciares

Nubes o vapor de agua

Océanos, mares, lagos y ríos

Observa la siguiente figura y

responde:

4. .- El hielo está pasando de estado:

- a) Líquido a gaseoso.
- b) Sólido a gas.
- c) Sólido a líquido.
- d) Líquido a sólido.



5. -Para definir de la mejor manera el concepto de materia, podemos decir lo siguiente:

- a) Es todo lo que nos rodea que se encuentra en estado sólido y líquido.
- b) Es todo lo que nos rodea, tiene masa y ocupa un lugar en el espacio.
- c) Es todo lo que está a nuestro alrededor en estado sólido.
- d) Es lo que nos rodea pero está en estado líquido y gaseoso

6. - Escriba el nombre de los cambios de estado correspondientes.

