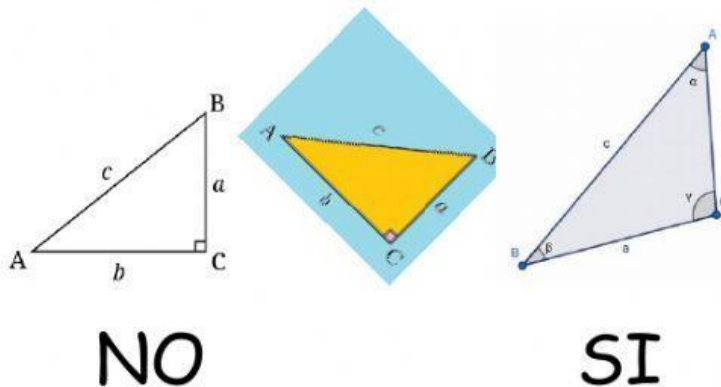
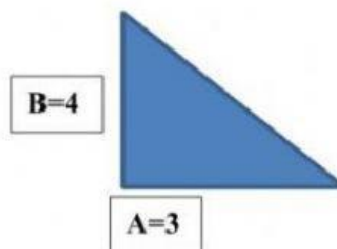


1. Relacione con SI o NO es un triángulo rectángulo, según corresponda:

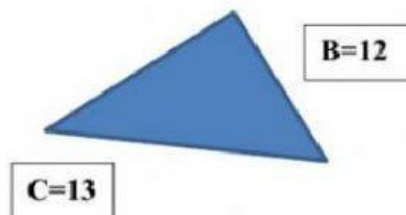


2. Calcule la medida del lado del triángulo según corresponda:

Halla los valores faltantes	
<b>A</b>	3
<b>B</b>	4
<b>C</b>	



Halla los valores faltantes	
<b>A</b>	
<b>B</b>	12
<b>C</b>	13



3. Observe cada triángulo rectángulo e identifique el valor de la hipotenusa y de cada de cateto:

	<b>CATETO</b>	<input type="text"/>
	<b>CATETO</b>	<input type="text"/>
	<b>HIPOTENUSA</b>	<input type="text"/>
	<b>CATETO</b>	<input type="text"/>
	<b>CATETO</b>	<input type="text"/>
	<b>HIPOTENUSA</b>	<input type="text"/>