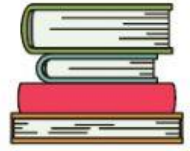




NÚMEROS NATURALES



1) Escribe en letras las siguientes cantidades:

345: _____

891: _____

257: _____

516: _____

2) Completa las series numéricas:



302



306



312



710




720



735

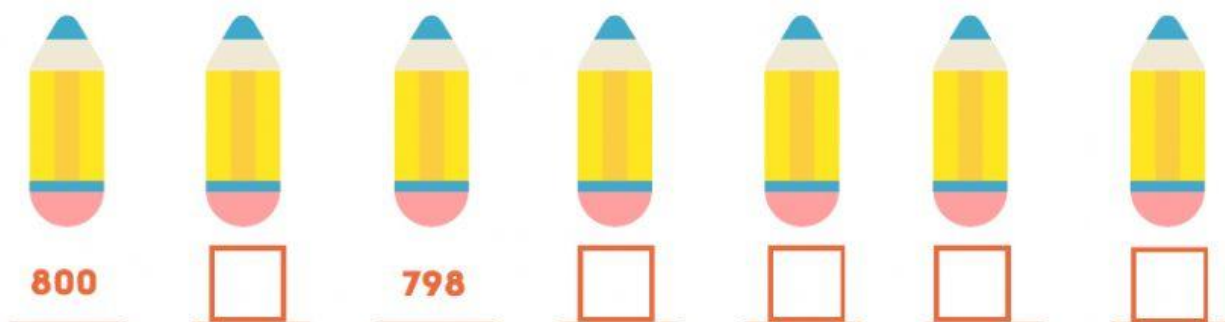


540



560





3) Determina el valor absoluto y posicional de las siguientes cantidades:

V. A

8342

V. P

8 → _____
 3 → _____
 4 → _____
 2 → _____

8 → _____ unidades
 3 → _____ unidades
 4 → _____ unidades
 2 → _____ unidades

V. A

2716

V. P

2 → _____
 7 → _____
 1 → _____
 6 → _____

2 → _____ unidades
 7 → _____ unidades
 1 → _____ unidades
 6 → _____ unidades

V. A

1597

V. P

1 → _____
 5 → _____
 9 → _____
 7 → _____

1 → _____ unidades
 5 → _____ unidades
 9 → _____ unidades
 7 → _____ unidades