

表 4 显示实验结果。

学生	能看见的字母数量
山姆	44
何密	61
哈利	36

表 4

根据上面的实验，最好的结论是什么？

- A 远距离导致视力变弱
- B 戴眼镜有助于增加视力
- C 物体越小，视力会越弱
- D 视力越强，能看见越小的物体

37 图 25 显示人类犁田的方法。




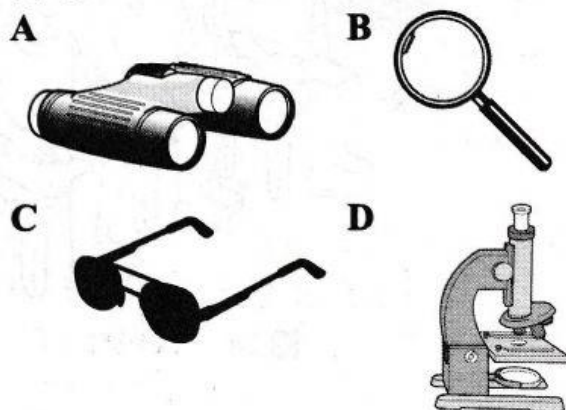
图 25

选出这个工艺的发展的正确顺序。

- A P, R, S, Q
- B P, S, Q, R
- C R, P, S, Q
- D R, S, P, Q

38 亚明想要观察湖水样本里是否有原生动物。

哪个工具能最有效地帮助他解决这个问题？



39 图 26 显示用不同材料来制作的模型桥。100 g 的重物被逐一加在模型桥上直至它塌陷。

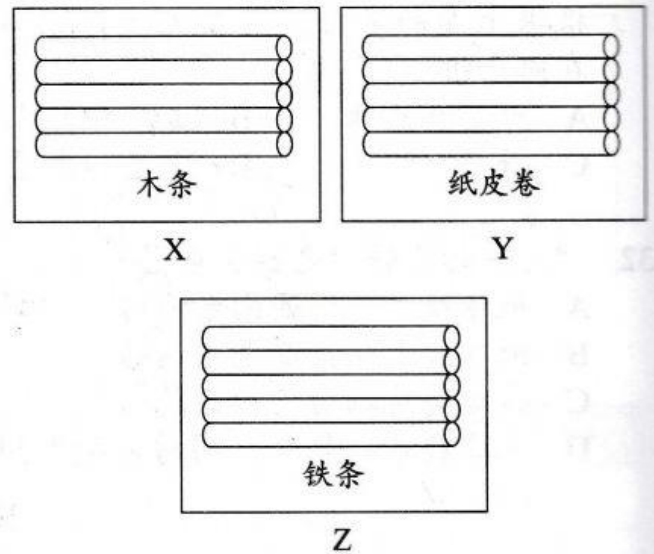


图 26

从最快到最慢，哪项是模型桥塌陷的排列顺序？

- A X → Y → Z
- B Y → Z → X
- C Y → X → Z
- D Z → X → Y

40 图 27 显示一只长颈鹿喝水时保持身体平衡的情况。



图 27

哪个物体的设计和长颈鹿喝水的原理相同？

