



MATEMÁTICAS

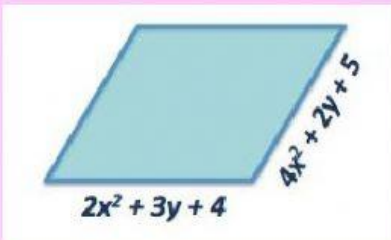
Número de Lista: _____

Fecha: _____

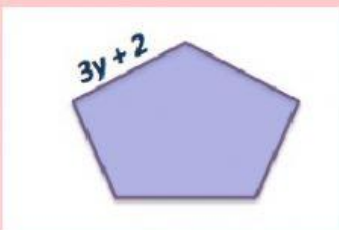
Nombre del alumno: _____

Observa el video, realiza el procedimiento mostrado para resolver los siguientes ejercicios.

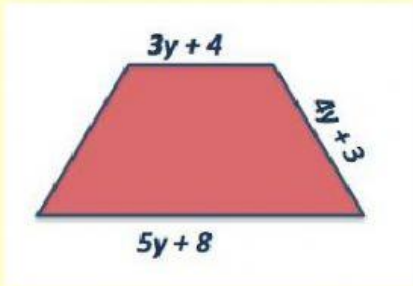
1. ¿Cuál es el perímetro de la siguiente figura?



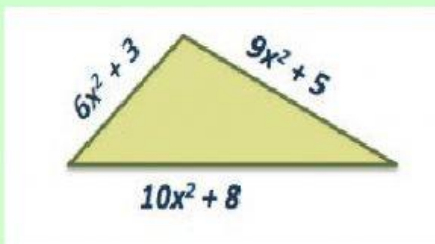
2. ¿Cuál es el perímetro de la siguiente figura?



3. ¿Cuál es el perímetro de la siguiente figura?



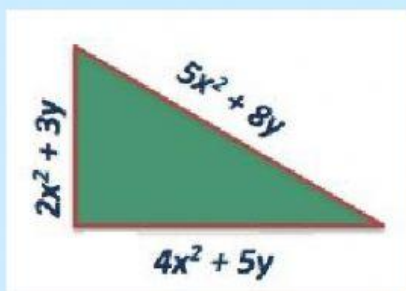
4. ¿Cuál es el perímetro de la siguiente figura?



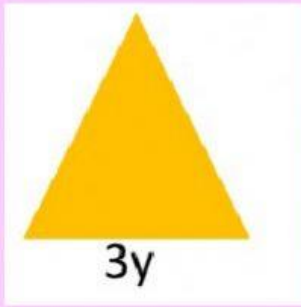
5. ¿Cuál es el perímetro de la siguiente figura?



6. ¿Cuál es el perímetro de la siguiente figura?



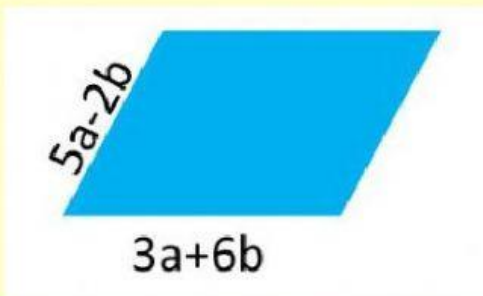
7. ¿Cuál es el perímetro de la siguiente figura?



8. ¿Cuál es el perímetro de la siguiente figura?



9. ¿Cuál es el perímetro de la siguiente figura?



10. ¿Cuál es el perímetro de la siguiente figura?

