

Actividad de tarea para los alumnos de 1º de secundaria inicio de 1º trimestre

Nombre:

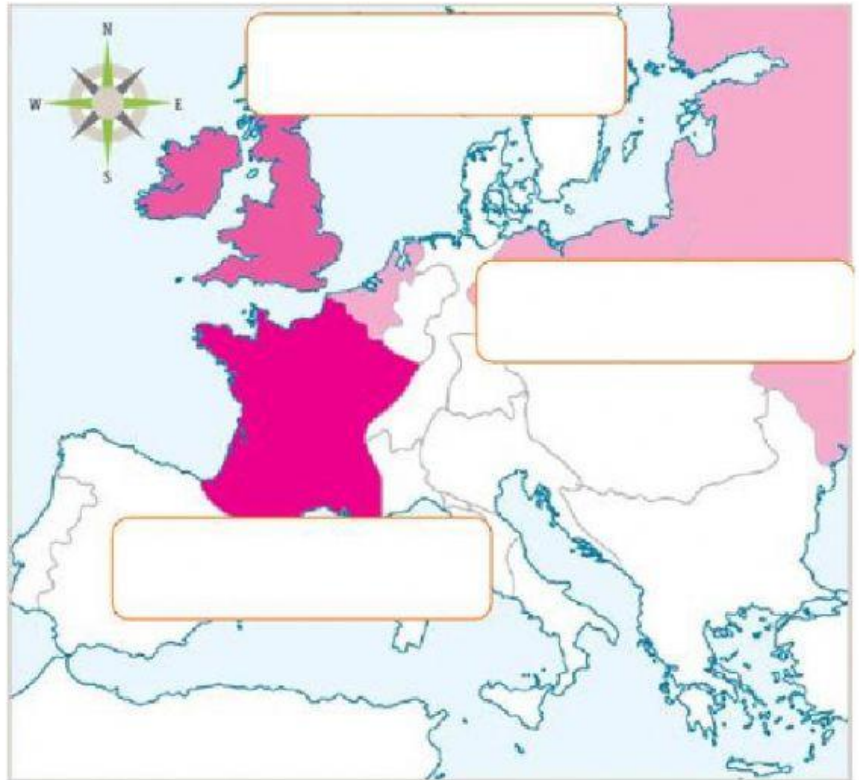
Fecha:




1.- Observa el mapa de Europa que muestra la división territorial a mediados del siglo XIX, considera la simbología. Arrastra el nombre del territorio a donde corresponde.

Reino de Países Bajos  
y Reino de Prusia

Reino de Gran Bretaña

Reino de Francia



-  Reino donde surgieron las ideas ilustradas y liberales
-  Reino donde se inició la Revolución Industrial
-  Reinos que se unieron bajo el nombre de Santa Alianza para restaurar la monarquía

2.- De los siguientes inventos, ¿cuáles contribuyeron a la producción y distribución de mercancías durante la Primera Revolución Industrial? Seleccionalos.

