

Guía de matemáticas

OA: Calcular el perímetro de las figuras utilizando estrategia de suma

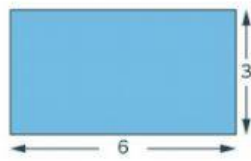
EL PERÍMETRO

Recuerda

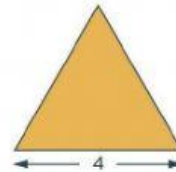
El **perímetro** es la **suma** de lo que miden los lados de un polígono.

Calculamos el perímetro de un polígono **sumando** lo que mide cada lado.

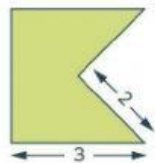
Calcula el perímetro de estas figuras, recuerda que debes sumar sus partes, según los datos que se entregan



18 12



8 12

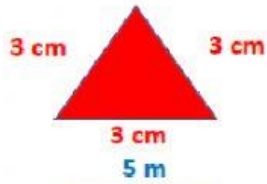


13 10

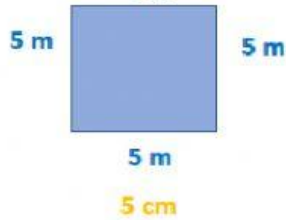


5 6

➤ Une cada figura con su perímetro correspondiente.



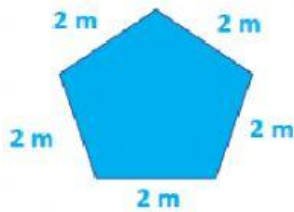
20 m



10 m



9 cm



14 cm

1. Calcula el perímetro de estos polígonos.

