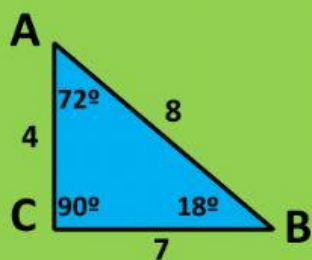


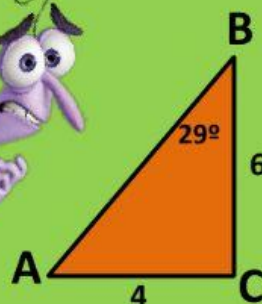
# NOTA DE APRECIACIÓN 1b. Ubicación de lados y ángulos

10 puntos

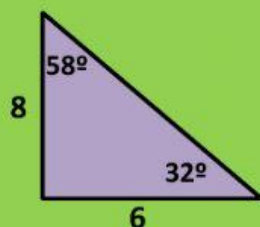
Coloque las respuestas correctas



| MEDIDAS |         |
|---------|---------|
| Lados   | Ángulos |
| a =     | A =     |
| b =     | B =     |
| c =     | C =     |



| MEDIDAS |         |
|---------|---------|
| Lados   | Ángulos |
| a =     | A =     |
| b =     | B =     |
| c =     | C =     |



|  |  |
|--|--|
| ¿Cuál es el lado opuesto al ángulo de 58°? |  |
| ¿Cuál es el lado opuesto al ángulo de 32°? |  |
| ¿Valor del lado mayor (Hipotenusa)         |  |



Ubica los lados en los siguientes triángulos (según el ángulo dado)

