

LEMBAR KERJA PESERTA DIDIK

TEMA 4
SUBTEMA 1
PEMBELAJARAN 1





PETUNJUK PEMBELAJARAN

1.

Berdoalah
sebelum
mengerjakan
tugas

2.

Tulislah nama
pada kolom yang
tersedia



3.



Simaklah video
pembelajaran
dalam LKPD

4.

Kerjakan soal
dengan penuh
tanggung
jawab


5.

Tekan FINISH jika
sudah selesai
mengerjakan soal



NAMA SISWA

SIMAKLAH VIDEO
PEMBELAJARAN DI BAWAH
INI!



Video Pembelajaran by Me

Tuliskan nama-nama pekerjaan di bawah ini!



Berilah tanda centang ✓ pada jenis pekerjaan yang dilakukan masyarakat di daerah pantai!

☐☐☐

Tentukan daerah yang cocok untuk ditanami tumbuhan di bawah ini!

Padi dan Jagung merupakan tumbuhan yang cocok ditanam di daerah . . .

Teh dan Stroberi merupakan tumbuhan yang cocok ditanam di daerah . . .

Berilah tanda centang ✓ pada gambar yang menunjukkan usaha pelestarian sumber daya alam!



Lengkapilah kegiatan untuk menjaga kelestarian sumber daya alam yang ada pada tabel di bawah ini!

<u>Sumber Daya Alam</u>	<u>Contoh Kegiatan untuk Menjaga Kelestariannya</u>
Air	
<u>Hewan</u>	
<u>Tumbuhan</u>	
<u>Bahan Bakar Minyak</u>	

Menggunakannya secara bijak

Melakukan tebang pilih

Menjaga lingkungan sekitar agar air tidak tercemar

Tidak berburu hewan langka

SOAL EVALUASI

1. Contoh pekerjaan penduduk yang tinggal di daerah dataran rendah adalah . . .
2. Orang yang pekerjaannya mencari ikan di laut disebut . . .
3. Tumbuhan yang tidak cocok ditanam di dataran rendah adalah . . .
4. Bakau adalah salah satu jenis tumbuhan yang cocok ditanam di daerah . . .
5. Pemetik teh merupakan salah satu pekerjaan di daerah . . .
6. Contoh sumber daya alam yang dapat diperbarui adalah . . .
7. Contoh menjaga kelestarian sumber daya alam laut antara lain . . .
8. Tidak berlebihan dalam menggunakan air merupakan salah satu cara menjaga kelestarian sumber daya alam . . .
9. Tidak berburu hewan langka merupakan salah satu cara menjaga kelestarian . . .
10. Cara menjaga kelestarian tumbuhan antara lain dengan . . .