

LKPD INTERAKTIF IPS

NAMA:

KELAS:

Nama Sekolah : SDN 2 Sigerongan

Tema 4 : Peduli Terhadap Makhluk Hidup

Hari/Tanggal : Senin, 4 Oktober 2021

Waktu : 08:00-09:00



Anak-anak bacalah teks ini dengan cermat ya!

PADI



Padi umumnya tumbuh di daerah yang berhawa panas, banyak mengandung uap air, dan curah hujan yang cukup.

Sinar matahari dan suhu sangat mempengaruhi tanaman padi. Suhu yang baik untuk

TEH



Teh umumnya tumbuh di daerah pegunungan.

Suhu yang baik untuk pertumbuhan tanaman teh adalah berkisar 13°C – 15°C dengan curah hujan tahunan tidak kurang dari 2.000mm³.

Sinar matahari dan suhu udara sangat

<p>pertumbuhan tanaman padi adalah 23°C.</p> <p>Tinggi tempat yang cocok untuk tanaman padi berkisar antara 0-1.500m di atas permukaan laut.</p> <p>Tanah yang baik untuk pertumbuhan tanaman padi adalah tanah berlumpur yang pinggirannya dengan ketebalan 18-22cm. Diperlukan pengairan yang cukup agar padi dapat tumbuh dengan baik.</p>	<p>mempengaruhi pertumbuhan tanaman teh. Bila suhu mencapai 30°C, maka akan memperlambat pertumbuhan tanaman teh.</p> <p>Tanah yang cocok untuk tanaman teh adalah tanah yang subur dan banyak mengandung bahan organik dan biasanya terletak di lereng-lereng gunung atau perbukitan.</p>
---	--

Soal Pilihan Ganda

1. Suhu yang baik untuk pertumbuhan tanaman padi adalah...
 - a. 21°C
 - b. 23°C
 - c. 24°C
 - d. 22°C

Soal Isian Singkat

1. Diperlukan pengairan yang cukup agar padi dapat tumbuh dengan?
2. Teh umumnya tumbuh di daerah?

Soal Uraian/Paragraf

1. Tulislah ide pokok/gagasan paragraph ke-4 pada bacaan teks tentang Padi diatas!

Soal Drag and Drop

1. Tariklah gambar tempat-tempat dibawah ini sesuai dengan namanya.

Sungai



Hutan



Langit



Soal Join Arrow/menjodohkan

1. Perhatikan tempat-tempat dibawah ini, kemudian hubungkan /jodohkan dengan menarik garis pada nama tempat-tempat tersebut.



Pantai



Sawah



Gunung

Soal Drop Down

1. Gunung adalah bagian kerak bumi yang lebih tinggi dari area di sekitarnya. Gunung biasanya memiliki sisi curam yang secara signifikan menyingkap batuan dasarnya. Gunung berbeda dari dataran tinggi karena memiliki daerah puncak yang terbatas, gunung lebih besar dari sebuah bukit, biasanya memiliki ketinggian setidaknya 300 meter (1.000 kaki) di atas tanah sekitarnya. Beberapa gunung adalah puncak yang berdiri sendiri, tetapi sebagian besar merupakan bagian dari rangkaian pegunungan.



Perhatikan bentuk gunung yang ada di gambar. Bentuk bangun datar apakah gunung tersebut?

Soal Check Box

Laut adalah sebuah perairan asin besar yang dikelilingi secara menyeluruh atau sebagian oleh daratan. Dalam arti yang lebih luas, "laut" adalah sistem perairan samudra berair asin yang saling terhubung di Bumi yang dianggap sebagai satu samudra global atau sebagai beberapa samudra utama. Terdapat banyak makhluk yang hidup dilaut. Dibawah ini terdapat hewan-hewan yang hidup dilaut. Pilihlah dengan mencentang semua jawab yang benar!



Soal Word Search/ Pencarian Kata










Carilah kata-kata berikut:

1. Gunung
2. Sawah
3. Pantai
4. Sungai
5. Langit
6. Hutan

L	D	B	T	J	H	U	T	A	N
A	I	Q	E	R	G	Y	I	P	A
N	H	E	V	F	K	F	E	B	S
G	K	R	G	U	N	U	N	G	H
I	O	R	E	V	S	W	E	R	S
T	P	A	N	T	A	I	R	T	A
O	W	A	V	E	L	O	E	R	W
F	O	T	U	L	A	N	S	T	A
X	G	H	M	E	W	A	F	A	H
P	S	U	N	G	A	I	S	L	A

Soal Listening and Speaking

1. Dengarkan soal dibawah ini, kemudian jawab dengan mengucapkan SALAH atau BENAR

Perhatikan gambar dan dengarkan soal	Ucapkan BENAR / SALAH
 	
 	
 	

Setelah menyelesaikan LKPD online ini, bacalah petunjuk berikut!

1. Setelah Anda mengerjakan semua soal, periksalah kembali jawaban Anda.
2. Jika Anda sudah yakin dengan semua jawaban, klik tombol FINISH
3. Tulis nama lengkap Anda pada kolom Enter your full name
4. Tulis kelas Anda pada kolom Group/level
5. Tulis mata pelajaran Anda pada kolom School subject
6. Klik Send