

















INSTRUCCIONES

OBSERVA LA TABLA Y LUEGO
RESPONDE A LAS PREGUNTAS

	A	B	C	D	E
1					
2					A
3					
4					
5		2			

Haz clic en la
respuesta correcta

RESPONDE SEGÚN LOS DATOS

	A	B	C	D	E
1					
2					A
3					
4					
5		2			









• ¿EN QUÉ CELDA ESTÁ EL SOL?

2-A

2-B

2-C

RESPONDE SEGÚN LOS DATOS

	A	B	C	D	E
1					
2					A
3					
4					
5		2			









• ¿EN QUÉ CELDA ESTÁ EL LÁPIZ?

1-A

1-E

1-D

RESPONDE SEGÚN LOS DATOS

	A	B	C	D	E
1					
2					A
3					
4					
5		2			









• ¿EN QUÉ CELDA ESTÁ EL SOL?

2-A

2-B

2-C

RESPONDE SEGÚN LOS DATOS

	A	B	C	D	E
1					
2					A
3					
4					
5		2			









• ¿EN QUÉ CELDA ESTÁ EL DADO?

4-A

4-C

4-D

RESPONDE SEGÚN LOS DATOS

	A	B	C	D	E
1					
2					A
3					
4					
5		2			

• ¿EN QUÉ CELDA ESTÁ EL NÚMERO 2?

5-A

5-B

5-E