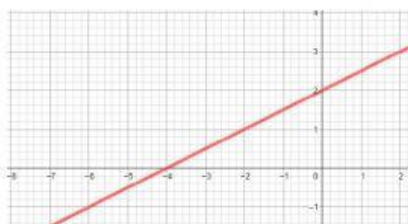
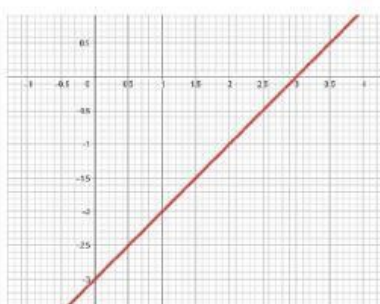


TEMA: FUNCION LINEAL

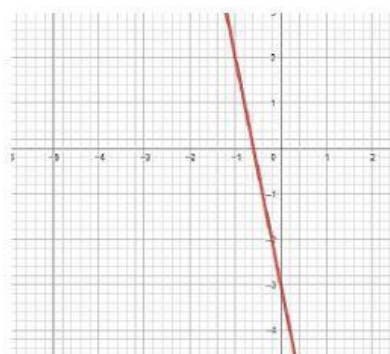
1. Relaciona cada grafica con su respectiva ecuación.



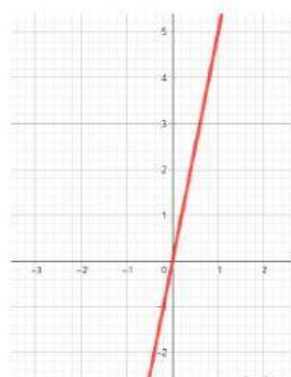
$$y = -5x - 3$$



$$y = x - 3$$



$$y = 5x$$



$$y = \frac{1}{2}x + 2$$

2. Que ecuación corresponde a la función que pasa por los puntos indicados.

A (-3,8) B(-6,-1)

$$y = 3x - 17$$

$$y = 3x + 17$$

$$y = 2x - 17$$