



Escola Municipal Herádio Fonseca Barroso

Data: ____/____/____ Turma: 2º ano

Professora: Cíneide

Estudante: _____



Atividade de Ciências

Os **órgãos dos sentidos** são responsáveis por nossa **percepção** do ambiente em que estamos. Os sentidos existentes e os órgãos relacionados são:

tato (pele); **visão** (olhos); **audição** (ouvido); **olfato** (nariz); **paladar** (boca).

1) Relacione os órgãos do sentido a seguir com as suas funções.



A

☐ Responsável por nos ajudar a sentir o sabor dos alimentos.



B

☐ Ajuda-nos a ouvir os sons do ambiente que está à nossa volta.



C

☐ Auxilia-nos a ver os objetos, pessoas, animais e a natureza.



D




☐ Com ele somos capazes de sentir a textura e temperatura dos objetos.



E

☐ Responsável por nos ajudar a sentir o cheiro dos alimentos e do ambiente, bem como o odor.

2º. Vamos ligar os desenhos correspondente aos órgão do sentido utilizado:



3º. Com os órgãos do sentido podemos perceber o mundo a nossa volta. Recorte e cole os nomes e as imagens no lugar correto:

COM MEUS
POSSO VER
O DIA AMANHECER!

COM MEUS
POSSO OUVIR
A ABELHA A ZUNIR!

COM MEU
POSSO CHEIRAR
O BOLO A ASSAR!

COM MINHA
POSSO SENTIR
ATÉ O SABOR DO ABACAXI!

COM MINHAS
POSSO TOCAR
MEU GATINHO A MIAR!

MÃOS

NARIZ

OLHOS

OUVIDOS

LÍNGUA

