



DINAS PENDIDIKAN KOTA BATU
SEKOLAH DASAR NEGERI JUNREJO 02
KECAMATAN JUNREJO

Jl. RA. Kartini No. 27 Junrejo Kec. Junrejo – Batu, Telp (0341) 462322
Email : sdn.junrejo02@gmail.com



PENILAIAN TENGAH SEMESTER (PTS)
TAHUN PELAJARAN 2021/2022

Mata Pelajaran	: Tema 1	Nama	:
Hari/ Tanggal	: Senin, 4 Oktober 2021	Kelas	:
Waktu	: 08.00 – 09.00 WIB.	No. Absen	:

Berilah tanda silang (x) huruf a, b, atau c pada jawaban yang paling benar!

1. Simbol berbentuk bintang melambangkan Pancasila sila ...
 - a. Ketiga
 - b. Keempat
 - c. Pertama
2. Sila dalam Pancasila yang bermakna memiliki rasa kemanusiaan dan keadilan terhadap semua teman adalah sila ke ...
 - a. Dua
 - b. Lima
 - c. Tiga
3. Dedi dan teman-teman sedang mengumpulkan dana untuk temannya yang mengalami musibah. Bunyi sila yang tepat untuk kegiatan tersebut adalah ...
 - a. Kemanusiaan yang adil dan beradab
 - b. Ketuhanan Yang Maha Esa
 - c. Persatuan Indonesia
4. Warga desa bermusyawarah melakukan pemilihan kepala desa. Kegiatan itu merupakan pengamalan Pancasila sila ke ...
 - a. 3
 - b. 4
 - c. 5

5. Orang yang hidup rukun adalah orang yang saling ...
 - a. Bermusuhan
 - b. Menghormati
 - c. Menghina
6. Makna dari ungkapan banyak akal adalah ...
 - a. Jujur
 - b. Pandai
 - c. Tidak sombong
7. Kalimat berikut yang termasuk kalimat ajakan adalah ...
 - a. Dedi, tolong ibu ambikan lap di atas meja makan
 - b. Maaf Made, sepertinya aku tidak dapat ikut bermain dulu
 - c. Ayo, kita kumpulkan uang untuk korban bencana alam!
8. Kalimat berikut yang termasuk perintah adalah ...
 - a. Jagalah kerukunan dengan teman di sekolah!
 - b. Ayo, berangkat sekolah.
 - c. Di mana kamu bersekolah?
9. Benda yang berada di taman bermain, misalnya ...
 - a. Ayunan
 - b. Buku
 - c. Toples
10. Kalau bekerja tidak sungguh-sungguh hasilnya kurang memuaskan. Ungkapan yang bermakna *tidak sungguh-sungguh* sesuai kalimat tersebut adalah ...
 - a. Setengah hati
 - b. Setengah tiang
 - c. Keras hati
11. Penulisan bilangan tiga ratus tiga adalah ...
 - a. 303
 - b. 330
 - c. 333

12. Bilangan yang tepat untuk mengisi kotak agar urut adalah ...

242, 244, , 248

- a. 246
- b. 255
- c. 245

13. Hasil penjumlahan berikut yang benar adalah ...

- a. $352 + 218 = 560$
- b. $253 + 375 = 528$
- c. $235 + 265 = 500$



14. 7 puluhan + 3 satuan + 6 ratusan = ...


- a. 736
- b. 367
- c. 673

15. Bentuk penjumlahan dari 3×7 yang tepat adalah ...

- a. $3 + 3 + 3 + 3 + 3 + 3 + 3$
- b. $7 + 7 + 7$
- c. $5 + 5 + 5 + 5$

16. Gambar yang menunjukkan gerakan kepala adalah ...



17.  Huruf di samping menggunakan jenis garis ...
- a. Lurus
 - b. Lengkung
 - c. Zig-zag
18. Bunyi di sekitar kita terbagi menjadi dua, yaitu pendek dan ...
- a. Panjang
 - b. Rendah
 - c. Lama
19. Priiiit ... priiiitt ... merupakan bunyi ...
- a. Lonceng dipukul
 - b. Bel dipencet
 - c. Peluit ditiup
20. Alat berikut yang tidak dapat digunakan untuk menggambar dikertas adalah ...
- a. Pensil warna
 - b. Krayon
 - c. Kapur