










Nama :

Kelas :

SENI BUDAYA XI
TANDA DIAM

Email Guru :

bapajo2007@gmail.com

1. Dalam notasi musik tanda yang menunjukkan tidak terjadinya nyanyian disebut
A. Tangga nada
B. Tangga nada diatonis mayor
C. Tangga nada dianotis minor
D. Tanda diam
E. Tangga nada diatonic

2. Pada notasi angka tanda diam ditulis dengan angka
A. 0
B. 1
C. 2
D. 3
E. 4

3. Jika dalam sebuah baris lagu terdapat empat tanda 0 berturut-turut, itu berarti harus diam selama
A. 4 ketuk
B. 2 ketuk
C. 3 ketuk
D. 1 ½ ketuk
E. 5 ketuk

4.  Tanda diam dalam paranada di samping adalah tanda diam penuh yang bernilai
A. 2 ketuk
B. 4 ketuk
C. 3 ketuk
D. 1 ketuk
E. ½ ketuk

5.  Tanda diam dalam paranada di samping adalah tanda diam setengah yang bernilai
A. 2 ketuk
B. 4 ketuk
C. 3 ketuk
D. 1 ketuk
E. ½ ketuk




6.  Tanda diam dalam paranada di samping adalah tanda diam seperempat yang bernilai
A. 2 ketuk
B. 4 ketuk
C. 3 ketuk
D. 1 ketuk
E. $\frac{1}{2}$ ketuk
7.  Tanda diam dalam paranada di samping adalah tanda diam seperdelapan yang bernilai
A. 2 ketuk
B. 4 ketuk
C. 3 ketuk
D. 1 ketuk
E. $\frac{1}{2}$ ketuk
8. Tanda untuk menaikkan, menurunkan, atau mengembalikan nada setinggi $\frac{1}{2}$ nada disebut tanda
A. Tanda kromatis
B. Tanda diam
C. Tanda kres
D. Tanda mol
E. Tanda pugar
9. Tanda untuk menaikkan nada setinggi $\frac{1}{2}$ nada disebut tanda
A. Tanda kromatis
B. Tanda diam
C. Tanda kres
D. Tanda mol
E. Tanda pugar
10. Tanda untuk menurunkan nada setinggi $\frac{1}{2}$ nada disebut tanda
A. Tanda kromatis
B. Tanda diam
C. Tanda kres
D. Tanda mol
E. Tanda pugar



BAPA JO CHANNEL YOUTUBE