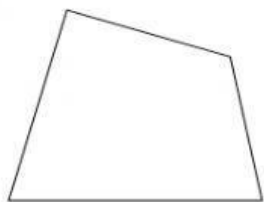


## FICHA REPASO DE MATEMATICA N°08

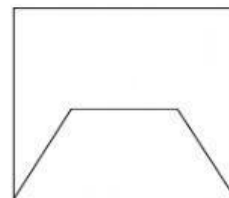
1. Escribe el nombre de cada polígono según el número de lados y después colorea.



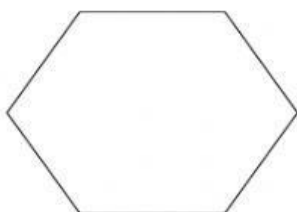
\_\_\_\_\_



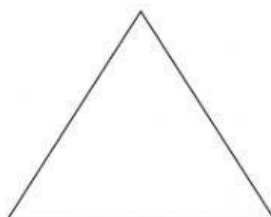
\_\_\_\_\_



\_\_\_\_\_



\_\_\_\_\_



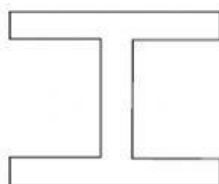
\_\_\_\_\_



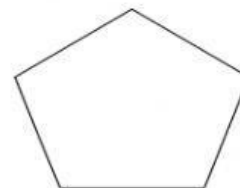
\_\_\_\_\_



\_\_\_\_\_



\_\_\_\_\_



\_\_\_\_\_

2. Indica el nombre del polígono que tiene:

3 lados \_\_\_\_\_

4 lados \_\_\_\_\_

5 lados \_\_\_\_\_

6 lados \_\_\_\_\_

7 lados \_\_\_\_\_

8 lados \_\_\_\_\_

9 lados \_\_\_\_\_

10 lados \_\_\_\_\_

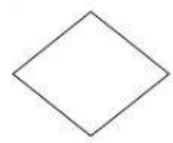
11 lados \_\_\_\_\_

12 lados \_\_\_\_\_

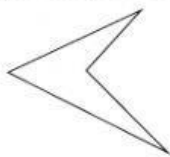
15 lados \_\_\_\_\_

20 lados \_\_\_\_\_

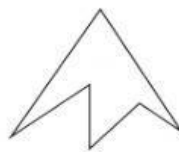
**3. Clasifica los siguientes polígonos por el número de lados:**



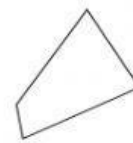
\_\_\_\_\_



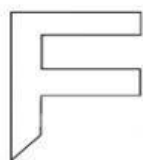
\_\_\_\_\_



\_\_\_\_\_



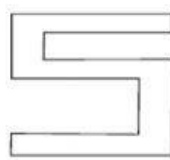
\_\_\_\_\_



\_\_\_\_\_



\_\_\_\_\_



\_\_\_\_\_



\_\_\_\_\_

**4. Indica el número de diagonales del:**

Triángulo

Cuadrilátero

Pentágono

Hexágono

**5. Menciona cuántos lados tienen los siguientes polígonos.**

Cuadrado

Pentágono

Icoságono

**6. Para un Octógono regular, calcular:**

a) Suma de ángulos interiores.

b) Número de diagonales

**7. Si en un hexágono regular, cada lado mide 9 cm. ¿Cuánto será su perímetro?**

**8. El perímetro de un cuadrilátero regular es 44 cm. ¿Cuánto mide cada lado?**